

CADERNO

202

FADENOR
FUNDAÇÃO DE APOIO AO DESENVOLVIMENTO DO ENSINO SUPERIOR DO NORTE DE MINAS

197 . 1 . 426

**CONCURSO PÚBLICO PARA PROVIMENTO DE CARGOS EFETIVOS
DA CÂMARA MUNICIPAL DE SANTA FÉ DE MINAS – MG**

**AUXILIAR DE SERVIÇOS GERAIS
MOTORISTA**

ORIENTAÇÕES

- 01 - Este caderno contém questões do tipo múltipla escolha.
- 02 - Verifique se o caderno contém falhas: folhas em branco, má impressão, páginas trocadas, numeração errada, etc. Encontrando falhas, levante a mão. O Fiscal o atenderá e trocará o seu caderno.
- 03 - Não marque mais de uma resposta para a mesma questão, nem deixe nenhuma delas sem resposta. Se isso acontecer, a resposta não será computada.
- 04 - Para marcar as respostas, use preferencialmente caneta esferográfica com tinta azul ou preta. **NÃO** utilize caneta com tinta vermelha. Assinale a resposta certa, preenchendo toda a área da bolinha.
- 05 - Tenha cuidado na marcação da Folha de Respostas, pois ela não será substituída em hipótese alguma.
- 06 - Confira e assine a Folha de Respostas, antes de entregá-la ao Fiscal. **NA FALTA DA ASSINATURA, A SUA PROVA SERÁ ANULADA.**
- 07 - Não se esqueça de assinar a Lista de Presenças.

DURAÇÃO DESTAS PROVAS: TRÊS HORAS

OBS.: Candidatos com cabelos longos deverão deixar as orelhas totalmente descobertas durante a realização das provas. É proibido o uso de boné.

NOME:

Nº DO PRÉDIO:

SALA:

ASSINATURA

COTEC
CONCURSOS
TÉCNICOS

PROVA DE LÍNGUA PORTUGUESA
Questões numeradas de 01 a 10

INSTRUÇÃO: Leia o trecho da crônica Os Discos Voadores, de Rachel de Queiroz, para responder às questões 01 a 08.

Os discos voadores

1 Eu por mim acredito. Por que não acreditaria? Nada vejo que justifique a descrença. Acredito em tudo. Que têm 15 metros de diâmetro, que são feitos de um metal desconhecido, brilhante como prata polida, que se compõem de três círculos concêntricos dos quais só um – o do meio – gira, fazendo o engenho mover-se; acredito que deixam um rastro luminoso por onde andam – decerto a poeira fosforescente dos mundos siderais que percorreram. E
5 acredito, principalmente, que sejam pilotados por homúnculos de meio metro de estatura, macrocéfalos, horrendos, vindos sabe Deus de que planeta, Marte, Vênus ou Saturno.

Ah, acredito. Por que não seria verdade? Todo o mundo os tem visto, no Oriente e no Ocidente, no Pacífico e no Atlântico, nas costas da Califórnia, no Peru e no Amazonas, em Maceió, no Uruguai; e até mesmo aqui no Rio teve um cavaleiro que os viu durante 45 minutos; viu-os com os seus olhos que a terra há de comer, se me
10 permitem a expressão, e por sinal chamou a radiopatrulha, no que se mostrou homem muitíssimo avisado.

Fonte: QUEIROZ, Rachel de. Os discos voadores. In: SANTOS, Joaquim Ferreira dos (org.). **As cem melhores crônicas brasileiras**. Rio de Janeiro: Ed. Objetiva, 2007. p. 85-87.

QUESTÃO 01

Constitui uma passagem que descreve determinado objeto desse texto:

- A) “Eu por mim acredito. Por que não acreditaria? Nada vejo que justifique a descrença.” (Linha 1)
- B) “Todo mundo os tem visto, no Oriente e no Ocidente, no Pacífico e no Atlântico [...]” (Linhas 7-8)
- C) “E até mesmo aqui no Rio teve um cavaleiro que os viu durante 45 minutos [...]” (Linhas 8-9)
- D) “[...] que são feitos de um metal desconhecido, brilhante como prata polida [...]” (Linha 2)
- E) “[...] e por sinal chamou a radiopatrulha, no que se mostrou homem [...] avisado.” (Linha 10)

QUESTÃO 02

Para se definir coerentemente o objeto de que o texto trata, deve-se remeter

- A) ao primeiro enunciado do texto.
- B) ao título presente no texto.
- C) ao questionamento presente na linha 1 do texto.
- D) à primeira pessoa do singular, em que o texto está escrito.
- E) aos pontos geográficos presentes no texto.

QUESTÃO 03

A acentuação gráfica da palavra destacada no seguinte enunciado do texto: “Que **têm** 15 metros de diâmetro [...]” (Linhas 1- 2) justifica-se porque ela

- A) é uma palavra paroxítona e um verbo.
- B) pode ser substituída pelo verbo “haver” nesse enunciado do texto.
- C) é uma palavra proparoxítona e todas as proparoxítonas são acentuadas.
- D) é uma palavra oxítona, por isso esse verbo necessita de acento gráfico.
- E) é o verbo “ter” na terceira pessoa do plural.

QUESTÃO 04

No enunciado “Todo o mundo os tem visto [...] **até mesmo** aqui no Rio...” (linha 8), a expressão destacada pode ser substituída por qual das palavras a seguir, sem que haja prejuízo de seu sentido?

- A) Portanto.
- B) Enquanto.
- C) Contudo.
- D) Embora.
- E) Inclusive.

QUESTÃO 05

A cronista utiliza-se de dois enunciados interrogativos no texto para, a partir deles,

- A) justificar a sua crença nos discos voadores.
- B) demonstrar aspectos fantasiosos da descrição do objeto.
- C) convencer o leitor de que ela acredita em Deus.
- D) gerar sentimentos negativos nos leitores do texto.
- E) manifestar solidariedade pelo outro, pelo ser humano.

QUESTÃO 06

Na palavra “**macro**céfalos” (linha 6) do texto, o prefixo destacado significa

- A) cor.
- B) espécie.
- C) tamanho.
- D) movimento.
- E) posição.

QUESTÃO 07

Em qual das alternativas a seguir, há um enunciado mais informal, mais próximo da linguagem oral?

- A) “Nada vejo que justifique a descrença.” (Linha 1)
- B) “[...] que a terra há de comer [...]” (Linha 8)
- C) “[...] que se compõem de três círculos concêntricos [...]” (Linhas 2-3)
- D) “[...] e por sinal chamou a radiopatrulha [...]” (Linha 10)
- E) “[...] teve um cavalheiro que os viu durante 45 minutos [...]” (Linha 9)

QUESTÃO 08

Entre as alternativas abaixo, qual sinônimo está designado adequadamente?

- A) cavalheiro = homem descortês, indelicado.
- B) avisado = desequilibrado, desassistido.
- C) concêntricos = que tem o mesmo centro.
- D) fosforescente = que brilha diante da luz.
- E) siderais = relativo às coisas terrestres.

QUESTÃO 09

Uma das alternativas abaixo apresenta um conjunto de palavras que devem ser acentuadas graficamente. Indique-a:

- A) arco-iris – musculo – fertil – futil.
- B) manifestação – fotografia – logicamente – expiação.
- C) nu – umbigo – obscena – sigilo.
- D) concentração – poluição – independente – obsessão.
- E) pitoresco – gosto – mendigo – atendente.

QUESTÃO 10

Entre os pares de palavras relacionadas abaixo, qual delas apresenta um antônimo?

- A) horrenda – feia.
- B) pilotado – guiado.
- C) verdade – realidade.
- D) brilhante – opaco.
- E) inocente – sem culpa.

PROVA DE MATEMÁTICA
Questões numeradas de 11 a 20

QUESTÃO 11

Tendo em vista o início das aulas em janeiro, a PREFEITURA comprou uma grande remessa de cadernos que serão entregues em três vezes de mesma quantidade. No ato da primeira entrega o funcionário recebeu 8 caixas de 1000 cadernos, 6 caixas de 100 cadernos, 4 pacotes de 10 cadernos. Quantos cadernos a PREFEITURA comprou?

- A) 8 600 cadernos
- B) 8 460 cadernos
- C) 25 840 cadernos
- D) 24 680 cadernos
- E) 25 920 cadernos

QUESTÃO 12

Dos pares de frações a seguir, qual é equivalente a $\frac{4}{3}$?

- A) $\frac{8}{6}; \frac{9}{12}$
- B) $\frac{6}{8}; \frac{24}{22}$
- C) $\frac{2}{6}; \frac{1}{3}$
- D) $\frac{12}{9}; \frac{32}{24}$
- E) $\frac{12}{24}; \frac{16}{15}$

QUESTÃO 13

Joaquim é pedreiro e foi contratado para uma obra onde deve trabalhar 8 horas por dia de segunda a sexta feira e no sábado apenas 4 horas. Então podemos afirmar que a jornada de trabalho semanal de pedreiro Joaquim é:

- A) 24 horas semanais;
- B) 32 horas semanais;
- C) 36 horas semanais;
- D) 40 horas semanais;
- E) 44 horas semanais;

QUESTÃO 14

Uma escola distribuiu igualmente 360 livros a 18 escolas. Cada escola redistribuiu os livros recebidos para 5 de seus professores. Então cada professor recebeu;

- A) 4 livros;
- B) 5 livros;
- C) 40 livros;
- D) 10 livros;
- E) 20 livros;

QUESTÃO 15

Dona Maria foi ao açougue e pediu ao vendedor 750 gramas de carne. Então é correto afirmar que Dona maria levou para casa:

- A) $\frac{1}{2}$ e quilogramas de carne;
- B) $\frac{2}{3}$ de quilogramas de carne;
- C) $\frac{3}{4}$ de quilogramas de carne;
- D) $\frac{1}{4}$ de quilogramas de carne;
- E) $\frac{1}{3}$ de quilogramas de carne;

QUESTÃO 16

O antecessor do número 1000 somado ao sucessor do mesmo número é:

- A) 999
- B) 1000
- C) 1001
- D) 2000
- E) 2001

QUESTÃO 17

Em 2016 a CBF (Confederação Brasileira de Futebol), padronizou os campos de futebol da série A , e todas as arenas oficiais, obrigatoriamente devem ter um perímetro de 346. Se o comprimento oficial é 105 metros então podemos afirmar que a largura é:

- A) 68 metros;
- B) 70 metros;
- C) 75 metros;
- D) 78 metros.
- E) 173 metros;



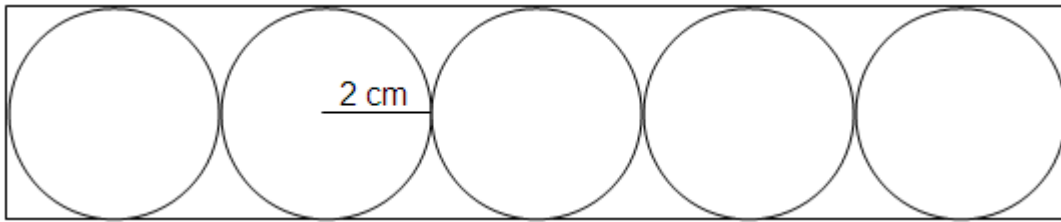
QUESTÃO 18

No dia 10 de setembro de 2020, 1 (um) dólar americano estava sendo vendido a R\$ 5,34. Então para comprar 53 dólares americanos no Brasil seriam necessários:

- A) R\$ 283,20
- B) R\$ 283,02
- C) R\$ 382,02
- D) R\$ 282,03
- E) R\$ 328,20

QUESTÃO 19

Num retângulo foram colocadas algumas circunferências todas com raio igual a 2 centímetros, como mostra a figura a seguir.



Fonte: Do autor

A área do retângulo é dada por: $\text{Área} = \text{base} \times \text{altura}$

Nessas condições é correto afirmar que a área do retângulo é:

- A) 40 cm²
- B) 80 cm²
- C) 20 cm²
- D) 60 cm²
- E) 50 cm²

QUESTÃO 20

Considere as figuras a seguir:



Figura 01



Figura 02

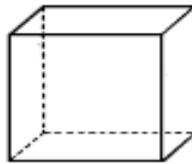


Figura 03

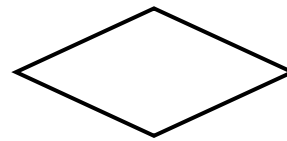


Figura 04



Figura 05

A única opção que não representa um polígono é:

- A) Figura 01
- B) Figura 02
- C) Figura 03
- D) Figura 04
- E) Figura 05

PROVA DE CONHECIMENTOS GERAIS
Questões numeradas de 21 a 25**QUESTÃO 21**

Leia as seguintes afirmativas acerca da História de Minas Gerais:

- I - A missa dominical era o programa obrigatório da vida local, e as pessoas aproveitavam para vestir a roupa mais bonita e elegante, popularmente denominada “roupa de ver Deus”.
- II - As crianças pobres, livres ou escravas costumavam trabalhar desde os sete anos de idade, meninos como lavradores e carpinteiros e meninas como rendeiras ou costureiras.
- III - Na Inconfidência houve vários movimentos, inclusive o literário com destaque para a poesia de Bárbara Guilhermina Silveira, a poetisa.

A qual período histórico de Minas Gerais as afirmativas se referem?

- A) Vida cotidiana na Minas Gerais, no período pré-colonial.
- B) Vida cotidiana na Minas Gerais, no período provincial.
- C) Vida cotidiana na Minas Gerais, no período republicano.
- D) Vida cotidiana na Minas Gerais, no período atual.
- E) Vida cotidiana na Minas Gerais, no período industrial.

QUESTÃO 22

Nada é mais abundante em nosso planeta do que a água. Por isso, é difícil imaginar que sua escassez. Entretanto, tal cenário é cada vez mais recorrente. Sobre esse fenômeno, analise as afirmativas a seguir.

- I) Em relação à situação da água no mundo, nenhuma região é poupada do impacto dessa crise, que afeta todos os aspectos da vida.
- II) A degradação da água não compromete a qualidade da vida humana, mas ela põe em risco a sobrevivência de inúmeras espécies animais e vegetais.
- III) A população mundial exerce pressão sobre a preservação dos mananciais de água doce e dos oceanos.

Assinale a alternativa **CORRETA**.

- A) Somente II e III estão corretas.
- B) Somente I e II estão corretas.
- C) Somente I e III estão corretas.
- D) Somente III está correta.
- E) I, II e III estão corretas.

QUESTÃO 23

A Astronomia é ciência que estuda os astros e o universo. O Universo é tudo: o Sol, a Terra, a Lua, os outros planetas e as estrelas. Sobre o Universo, marque a alternativa **CORRETA**.

- A) As constelações ou mapas do céu são enormes aglomerados de corpos celestes que se relacionam entre si devido à gravidade.
- B) As constelações ou mapas do céu são astros luminosos, que emitem luz própria, como os planetas que fazem parte do sistema solar.
- C) As galáxias ou mapas do céu são astros luminosos, que emitem luz própria, como os planetas que fazem parte do sistema solar.
- D) A teoria da explosão ou “*big bang*” afirma que o universo é resultado de um ser divino e mítico que teria criado o mundo.
- E) As galáxias são enormes aglomerados de corpos celestes, como as estrelas e os planetas, que se relacionam entre si devido à gravidade.

QUESTÃO 24

A cultura indígena brasileira é vasta e diversificada, ao contrário do que pensa o senso comum. Os historiadores estimam que, no início do século XVI, havia quatro grandes agrupamentos linguísticos. Sobre a história e cultura dos indígenas do Brasil, associe a segunda coluna de acordo com a primeira.

- | | | |
|-------------------------|-----|---|
| 1- Religião politeísta. | () | Perspectiva europeia sobre os povos indígenas, que considera esse modo de vida inferior por não conter elementos considerados como símbolos de civilização e progresso. |
| 2- Visão etnocêntrica. | () | Adornos corporais e pinturas com materiais extraídos da natureza, como a tintura de urucum, os colares de peças naturais e adornos feitos com base na arte plumária. |
| 3- Identidade cultural. | () | Baseada em conjuntos de mitos sobre seres espirituais, era variada, entretanto era comum a crença em entidades espirituais que habitavam o mundo material. |

A associação **CORRETA**, de cima para baixo, é:

- A) 1, 2, 3.
- B) 3, 2, 1.
- C) 2, 1, 3.
- D) 2, 3, 1.
- E) 3, 1, 2.

QUESTÃO 25

Os três poderes, independentes e coesos entre si, são categorias dos poderes políticos. Além disso, cada categoria de poder político possui seu campo de atuação. No nível federal, o poder político representado pelo Congresso Nacional, ou seja, a Câmara de Deputados e o Senado é o:

- A) Poder Legislativo.
- B) Poder Judiciário.
- C) Poder Legal.
- D) Poder Policial.
- E) Poder Executivo.

