

CADERNO

403

**FADENOR**  
FUNDAÇÃO DE APOIO AO DESENVOLVIMENTO DO ENSINO SUPERIOR DO NORTE DE MINAS

3 - 274 - 536

**CONCURSO PÚBLICO PARA PROVIMENTO DE CARGOS EFETIVOS  
DA PREFEITURA MUNICIPAL DE MONTES CLAROS – MG**

**EDITAL 2/2024**  
**AGRUPAMENTO 2**

**Motorista Carteira “D”**

**ORIENTAÇÕES**

- 01 - Este caderno contém questões do tipo múltipla escolha.
- 02 - Verifique se o caderno contém falhas: folhas em branco, má impressão, páginas trocadas, numeração errada, etc. Encontrando falhas, levante a mão. O Fiscal o atenderá e trocará o seu caderno.
- 03 - Não marque mais de uma resposta para a mesma questão, nem deixe nenhuma delas sem resposta. Se isso acontecer, a resposta não será computada.
- 04 - Para marcar as respostas, use preferencialmente caneta esferográfica com tinta azul ou preta. **NÃO** utilize caneta com tinta vermelha. Assinale a resposta certa, preenchendo toda a área da bolinha.
- 05 - Tenha cuidado na marcação da Folha de Respostas, pois ela não será substituída em hipótese alguma.
- 06 - Confira e assine a Folha de Respostas, antes de entregá-la ao Fiscal. **NA FALTA DA ASSINATURA, A SUA PROVA SERÁ ANULADA.**
- 07 - Não se esqueça de assinar a Lista de Presenças.

OBS.: Candidatos com cabelos longos deverão deixar as orelhas totalmente descobertas durante a realização das provas. É proibido o uso de boné.

NOME:

Nº DO PRÉDIO:

SALA:

ASSINATURA

**COTEC**  
CONCURSOS  
TÉCNICOS

## PROVA DE LÍNGUA PORTUGUESA

**INSTRUÇÃO:** Leia, com atenção, o texto 01 e, a seguir, responda às questões 01 a 05, que a ele se referem.

### Texto 01

#### Por onde andam os vagalumes?

Recentemente sonhei com vagalumes. Mais do que tentar entender a relação do sonho com a minha vida ou então tentar captar algum recado urgente vindo do meu inconsciente, fui tomado primeiro por um impulso de memória e, em seguida, por um questionamento. Ainda na cama perguntei para Andréia: Por onde andam os vagalumes?

Passado seu espanto com minha pergunta, antes mesmo de lhe dar um bom dia, meu questionamento ganhou reforço com sua resposta: “Pois é, por onde andam? Eles ainda existem?”. Ah, os vagalumes....

Minha memória me levou à infância, mais precisamente a Peruíbe, no litoral paulista, nos anos 1980.

Lembrei-me das noites em que muitos vagalumes salpicaram suas luzes entre os galhos das enormes primaveras vermelhas do jardim de minha avó.

Havia muitos outros que também transformavam o terreno pantanoso do outro lado da rua em que morávamos numa pequena constelação de luzes. Que lembrança boa!

Como qualquer ser humano nesses tempos conectados e de respostas na palma da mão, corri para o Google e digitei: “Por onde andam os vagalumes?”

Resposta: “Infelizmente, esses animais estão desaparecendo rapidamente em todo o mundo. Trata-se de uma perda significativa para a biodiversidade, além de ser um alerta para a saúde do nosso ecossistema.”

Quis saber um pouco mais e fiz uma segunda pergunta: Mas por que isso está acontecendo?

“Com o crescente aumento da população humana, mais e mais *habitats* selvagens estão sendo invadidos para atender às nossas ‘necessidades’. À medida que construímos casas, pavimentamos áreas verdes e drenamos pântanos, estamos destruindo o *habitat* natural dos vagalumes”.

Minha fase mais reflexiva desses últimos tempos me manteve no jardim de minha avó para além do meu sonho daquela manhã. Tive uma forte intuição – a ponto de querer escrever sobre isso – de que a crise ecológica de que tanto se fala e se discute hoje, não é uma crise técnica em que a geoengenharia resolverá todos os problemas, e nos “salvará” da catástrofe iminente como muitos querem nos fazer crer.

Penso que a natureza também tem morrido em nome de uma falsa sustentabilidade, que hoje virou um negócio também. Deixe-me voltar para o jardim de minha avó para explicar um pouco melhor o que quero dizer com essa breve reflexão. Dona Nena jamais tentaria “salvar” qualquer ecossistema que fosse, como muitos vivem propagando como grandes “salvadores”.

Aliás, dado ao seu jeito muito mais voltado ao universo do sentir do que do falar, desconfio que minha avó jamais cairia na tentação de “salvar” o que quer que fosse nesse mundo. Não que ela ignorasse as causas e os sofrimentos humanos, mas é que ela já intuía que não se “salva” aquilo que já está dentro de nós. O cuidado com o ecossistema já estava subentendido no jardim de sua casa, regado pelo coração.

Tenho certeza de que se a minha avó estivesse viva, ela concordaria com um certo espírito do ambientalista genuíno, que mesmo que o aumento da temperatura parasse ou fosse revertido – como almejam os especialistas e as entidades ao redor do planeta –, valeria a pena continuar cuidando com todo o empenho de nossas florestas e, “consequentemente”, dos nossos vagalumes. Não apenas porque são o epicentro da biodiversidade, vida e beleza, mas porque são sagrados por direito.

Jamais cuidaremos do mundo se não amarmos o mundo. O mundo somos nós. Saudades dos vagalumes. Saudades de Dona Nena.

Disponível em: <https://revistavidasimples.com>. Acesso em 18 maio 2024. Adaptado.

#### QUESTÃO 01

Entre as reflexões presentes no texto, está(ão) a(s)

- A) relação existente entre o sonho com vagalumes e os acontecimentos da vida.
- B) consequências da falta de uma preocupação genuína com o ecossistema.
- C) mensagens enviadas pelo inconsciente por meio do sonho com vagalumes.
- D) preocupação com a verdadeira sustentabilidade como um negócio lucrativo.
- E) luta exitosa das entidades para salvar a Terra e preservar a biodiversidade.

#### QUESTÃO 02

Análise as afirmativas a seguir, tendo em vista as ideias veiculadas no texto.

- I. As pessoas que falam em sustentabilidade se preocupam de fato com ela.
- II. As ações individuais são muito importantes para a preservação da natureza.
- III. O discurso da sustentabilidade hoje é explorado apenas para se obter lucro.
- IV. A perda da biodiversidade acontece não só no Brasil, mas em todo o mundo.
- V. O sentir é mais importante que o falar quando a questão é cuidar do planeta.

Estão **CORRETAS** as afirmativas

- A) I, II e III, apenas.
- B) II, III e V, apenas.
- C) II, III, IV e V, apenas.
- D) III, IV e V, apenas.
- E) I, II, III, IV e V.

### QUESTÃO 03

Analise os itens a seguir, tendo em vista os recursos de expressão usados na construção do texto.

- I. Intertextualidade.
- II. Coloquialidade.
- III. Conotação.
- IV. Denotação.
- V. Subjetividade.

Estão **CORRETOS** os itens

- A) I, II, III e IV, apenas.
- B) I, II e III, apenas.
- C) II, III e V, apenas.
- D) III, IV e V, apenas.
- E) I, II, III, IV e V.

### QUESTÃO 04

Em “Pois é, por onde andam? Eles ainda existem?”. Ah, os vagalumes...”, as aspas assinalam o uso de

- A) discurso direto.
- B) discurso indireto.
- C) neologismo.
- D) ironia.
- E) arcaísmo.

### QUESTÃO 05

Quanto ao tipo, é **CORRETO** afirmar que se trata, predominantemente, de um texto

- A) narrativo.
- B) descritivo.
- C) expositivo.
- D) dissertativo.
- E) injuntivo.

**INSTRUÇÃO:** Leia, com atenção, o texto 02 e, a seguir, responda às questões 06 a 08, que a ele se referem.

Texto 02



Disponível em: <https://bichinhosdejardim.com/hoje-nas-redes-sociais/>. Acesso em: 21 maio 2024.

### QUESTÃO 06

O comportamento das pessoas nas redes sociais que é criticado no texto, por meio das falas da personagem Joana, é o(a)

- A) entusiasmo.
- B) hipocrisia.
- C) interesse.
- D) solidariedade.
- E) egoísmo.

### QUESTÃO 07

Na fala do primeiro quadro do texto 02, as vírgulas foram usadas, de acordo com a norma, para separar um(a)

- A) aposto explicativo.
- B) vocativo.
- C) oração explicativa.
- D) adjunto adverbial.
- E) predicativo.

---

### QUESTÃO 08

Analise as afirmativas a seguir, tendo em vista a estrutura linguística de construção das falas do texto 03.

- I. A palavra “que”, nas três falas, foi usada para retomar substantivos anteriores.
- II. A palavra “jamais” expressa, simultaneamente, as ideias de negação e tempo.
- III. O infinitivo, uma das formas nominais do verbo, foi usado nas três falas da tira.
- IV. A locução verbal “vou repassar” poderia ser substituída pelo verbo “repassarei”.
- V. A circunstância de negação apresenta-se em todas as falas que compõe a tira.

Estão **CORRETAS** as afirmativas

- A) I, II, III e IV, apenas.
- B) I, II e III, apenas.
- C) II, III e V, apenas.
- D) III, IV e V, apenas.
- E) I, II, III, IV e V.

---

**INSTRUÇÃO:** Leia, com atenção, o texto 03 e, a seguir, responda às questões 09 e 10, que a ele se referem.

#### Texto 03

“Viver é uma questão de rasgar-se e remendar-se.”

Guimarães Rosa

Disponível em: <https://ospontosdevista.blogs.sapo.pt/frases-de-guimaraes-rosa>. Acesso em: 22 maio 2024.

### QUESTÃO 09

Analise as afirmativas a seguir, tendo em vista as ideias que se podem inferir da frase de Guimarães Rosa.

- I. O termo “rasgar-se” remete à ideia dos sofrimentos impostos pelo processo de viver.
- II. O termo “remendar-se” remete à ideia de recuperar-se dos sofrimentos da vida.
- III. O termo “remendar-se” remete à ideia de recuperar-se plenamente dos sofrimentos.
- IV. O termo “viver” remete a um processo em que são inerentes “ferimentos” e “cicatrizações”.
- V. O termo “viver” remete a um processo em que nem sempre se consegue reestabelecer-se.

Estão **CORRETAS** as afirmativas

- A) I, II e IV, apenas.
- B) I, II, III e IV, apenas.
- C) II, III e IV, apenas.
- D) III, IV e V, apenas.
- E) I, II, III, IV e V.

---

### QUESTÃO 10

Em “rasgar-se” e “remendar-se”, o “se” insere, na frase, uma ideia de

- A) indeterminação.
- B) passividade.
- C) reflexividade.
- D) reciprocidade.
- E) condição.

## PROVA DE MATEMÁTICA

### QUESTÃO 11

Marcos está organizando a manutenção de dois tipos de aparelhos que precisam ser calibrados, em intervalos regulares. Os períodos são de 24 e 36 dias, respectivamente. Qual é o máximo divisor comum (MDC) desses períodos?

- A) 4.
- B) 6.
- C) 8.
- D) 12.
- E) 18.

---

### QUESTÃO 12

Considere que um motorista que esteja planejando uma viagem sabe que, com um tanque cheio de combustível, que tem capacidade para 45 litros, ele pode percorrer 360 km. Se ele precisar viajar 540 km, quantos litros de combustível serão necessários para completar a viagem?

- A) 67,5 litros.
- B) 75 litros.
- C) 80 litros.
- D) 89 litros.
- E) 90 litros.

### QUESTÃO 13

Um técnico de radiologia está ajustando a dose de um medicamento. Ele sabe que a dose recomendada deve ser menor que 20 mg e maior que 10 mg. Se a dose atual é de 22 mg, ele está dentro do intervalo recomendado?

- A) A dose está correta, mas precisa ser ajustada.
- B) Sim, está dentro do intervalo recomendado.
- C) Não é possível determinar sem mais informações.
- D) Não, está fora do intervalo recomendado.
- E) A dose está baixa demais para o procedimento.

### QUESTÃO 14

Raul, motorista de aplicativo, precisa escolher entre duas plataformas: A e B. A plataforma A cobra uma taxa fixa de R\$ 2,00 por corrida, além de R\$ 1,50 por quilômetro rodado. Já a plataforma B cobra uma taxa fixa de R\$ 3,20 e R\$ 1,20 por quilômetro rodado.

Para qual distância percorrida é mais vantajoso utilizar a plataforma A em relação à plataforma B?

- A) Entre 3 km e 4 km.
- B) Mais de 3 km.
- C) Menos de 3 km.
- D) Menos de 4 km.
- E) Mais de 4 km.

### QUESTÃO 15

Um atleta está controlando sua dieta e precisa calcular a quantidade total de calorias consumidas em um dia. Ele consumiu um café da manhã com 350 calorias, um almoço com 580 calorias, uma fruta com 80 calorias e um jantar com 420 calorias. Além disso, ele realizou um treino intenso que queimou 750 calorias.

Qual a variação total de calorias no corpo do atleta, após todas essas ações?

- A) Perda de 680 calorias.
- B) Ganho de 680 calorias.
- C) Ganho de 1.340 calorias.
- D) Ganho de 1.430 calorias.
- E) Perda de 1.430 calorias.

### QUESTÃO 16







Um aluno está estudando para uma prova de matemática e precisa resolver o seguinte problema:

Um retângulo tem base medindo  $(x + 3)$  cm e altura medindo  $(2x - 1)$  cm. Qual é a expressão que representa a área desse retângulo?

- A)  $x^2 + 2x - 3 \text{ cm}^2$ .
- B)  $3x^2 + 4x - 3 \text{ cm}^2$ .
- C)  $3x^2 - 4x + 3 \text{ cm}^2$ .
- D)  $2x^2 - 5x + 3 \text{ cm}^2$ .
- E)  $2x^2 + 5x - 3 \text{ cm}^2$ .

### QUESTÃO 17

Com base nos dados do quadro de medalhas das Olimpíadas de Paris 2024, apresentados na tabela a seguir, qual país apresentou a maior variação entre o número de medalhas de ouro e o número de medalhas de bronze?

Pos.	País	Ouro	Prata	Bronze	Total
1	 Estados Unidos	40	44	42	126
2	 China	40	27	24	91
3	 Japão	20	12	13	45
4	 Austrália	18	19	16	53
5	 França	16	26	22	64
20	 Brasil	3	7	10	20

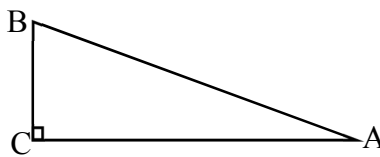
Disponível em: <https://ge.globo.com/olimpiadas/quadro-de-medalhas-olimpiadas-paris-2024/>. Acesso em: 18 ago. 2024. (Adaptado)

- A) Estados Unidos.
- B) China.
- C) Japão.
- D) Austrália.
- E) França.

### QUESTÃO 18

Considere o triângulo retângulo a seguir, com os lados AB, BC, e AC, em que  $\hat{A}$  é o ângulo agudo. Com base nas relações trigonométricas e no Teorema de Pitágoras, analise as afirmativas abaixo:

- I.  $\text{sen}\hat{A} = \frac{BC}{AB}$ .
- II.  $\text{cos}\hat{A} = \frac{AB}{BC}$ .
- III.  $\text{tg}\hat{A} = \frac{\text{sen}\hat{A}}{\text{cos}\hat{A}}$ .
- IV.  $(AB)^2 = (BC)^2 + (AC)^2$ .



Fonte: O autor, 2024.

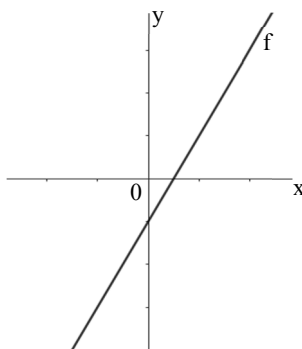
Estão **CORRETAS** as afirmativas

- A) I e II, apenas.
- B) I e III, apenas.
- C) I, III e IV, apenas.
- D) II e IV, apenas.
- E) III e IV, apenas.

### QUESTÃO 19

Considere o gráfico da função  $f$  representada a seguir, dada pela expressão  $f(x) = ax + b$ . Com base na função e nas características do gráfico, é **CORRETO** afirmar que:

- A)  $b < 0$ .
- B)  $a < 0$ .
- C)  $b = 0$ .
- D)  $a = 0$ .
- E)  $b > 0$ .



Fonte: O autor, 2024.

### QUESTÃO 20

Um motorista autônomo decidiu vender parte de seu caminhão de carga. Ele vendeu  $\frac{3}{10}$  do caminhão por um preço que deu um lucro de 30%, enquanto a parte restante foi vendida com um prejuízo de 10%. Considerando o total da venda, pode-se afirmar que o motorista obteve

- A) prejuízo de 2%.
- B) lucro de 5%.
- C) lucro de 2%.
- D) prejuízo de 3%.
- E) lucro de 20%.

## PROVA DE LEGISLAÇÃO

### QUESTÃO 21

De acordo com a Lei nº 3.175, de 23 de dezembro de 2003, a frequência do servidor público será apurada, sendo vedado dispensar o servidor do registro diário de ponto, abonar faltas ou reduzir-lhe a jornada de trabalho, salvo nos casos previstos em lei ou regulamento. O que ocorrerá em caso de infração dessa norma?

- A) Exclusão da ação disciplinar do servidor.
- B) Redução automática da jornada de trabalho.
- C) Responsabilidade da autoridade infratora.
- D) Isenção de responsabilidade da chefia.
- E) Anulação do registro de ponto do servidor.

### QUESTÃO 22

Um servidor público do Município de Montes Claros (MG) não foi aprovado no estágio probatório. De acordo com a LEI Nº 3.175, DE 23 DE DEZEMBRO DE 2003, o que deve ocorrer com esse servidor?

- A) Será imediatamente demitido, sem direito à defesa.
- B) Será transferido para outro setor.
- C) Poderá continuar no cargo por mais um período de estágio probatório.
- D) Será exonerado ou reconduzido ao cargo anterior, com direito ao contraditório e ampla defesa.
- E) Será promovido automaticamente.

---

**QUESTÃO 23**

De acordo com a LEI Nº 3.175, DE 23 DE DEZEMBRO DE 2003, qual é o requisito necessário para a investidura em cargo público?

- A) Aprovação prévia em concurso público.
- B) Indicação política.
- C) Nomeação direta do prefeito.
- D) Nomeação por mérito acadêmico.
- E) Indicação por um colega de trabalho.

---

**QUESTÃO 24**

De acordo com a LEI Nº 3.175, DE 23 DE DEZEMBRO DE 2003, sobre a posse no cargo público no Município de Montes Claros (MG), qual das alternativas está **CORRETA**?

- A) A posse ocorre após 60 dias da nomeação, sem necessidade de prorrogação.
- B) A posse é automática após nomeação, sem quaisquer requisitos formais.
- C) A posse ocorre pela assinatura do termo e preenchimento dos requisitos exigidos.
- D) O cidadão não precisa prestar compromisso no ato da posse.
- E) O prazo para a posse não pode ser prorrogado.

---

**QUESTÃO 25**

Segundo o Estatuto dos Servidores Públicos do Município de Montes Claros (MG), qual é um princípio fundamental que os servidores devem observar em relação às ordens dos superiores?

- A) Questionar todas as ordens dos superiores para garantir transparência.
- B) Desconsiderar ordens que não concordem com seus princípios pessoais.
- C) Seguir apenas as ordens que beneficiem diretamente sua carreira.
- D) Ignorar as ordens superiores para evitar conflitos pessoais.
- E) Obedecer às ordens legais dos superiores, velando por seu cumprimento.

---

**QUESTÃO 26**

De acordo com a LEI Nº 3.175, DE 23 DE DEZEMBRO DE 2003, quem é responsável por determinar a lotação do servidor nomeado e empossado no Município de Montes Claros (MG)?

- A) A Comissão de Ética.
- B) O Prefeito Municipal.
- C) O chefe imediato do servidor.
- D) O próprio servidor escolhe sua lotação.
- E) O Secretário Municipal de Administração.

---

**QUESTÃO 27**

Um servidor público do Município de Montes Claros (MG) deseja melhorar seu desempenho no trabalho. De acordo com a LEI Nº 3.175, DE 23 DE DEZEMBRO DE 2003, qual das seguintes ações ele deve adotar para cumprir seus deveres?

- A) Vestir-se de forma casual e confortável, independentemente das normas do local de trabalho.
- B) Manter limpo e organizado seu local de trabalho, seguindo os métodos mais adequados.
- C) Evitar participar de estudos e movimentos relacionados à melhoria das funções públicas.
- D) Focar somente nas suas tarefas diárias, ignorando as instruções e as normas do serviço.
- E) Apresentar-se ao trabalho apenas quando achar necessário, sem seguir horários fixos.

---

**QUESTÃO 28**

Suponha que um servidor público do Município de Montes Claros (MG) foi observado em várias ocasiões apresentando sinais de embriaguez durante o expediente. Segundo o Estatuto dos Servidores Públicos, qual das seguintes ações disciplinares seria apropriada para essa situação?

- A) Iniciar um processo disciplinar que pode resultar em penalidades, incluindo a demissão.
- B) Ignorar o comportamento, pois não afeta diretamente o desempenho das funções.
- C) Alertar o servidor sobre as consequências de seu comportamento, sem medidas disciplinares.
- D) Aplicar uma advertência verbal ao servidor, sem registrar oficialmente o incidente.
- E) Transferir o servidor para outro setor, independentemente do comportamento observado.

---

**QUESTÃO 29**

Segundo o Código de Ética do Município de Montes Claros (MG), qual é uma das responsabilidades dos servidores públicos em relação ao cumprimento do código, previsto na Lei Municipal 3.177, de 23 de dezembro de 2003?

- A) Informar apenas aos colegas próximos sobre o código de Ética.
- B) Divulgar e informar a todos de sua classe sobre a existência do Código de Ética.
- C) Guardar as informações sobre o código somente para si mesmo.
- D) Manter o código em sigilo para evitar conflitos entre os servidores.
- E) Ignorar a existência do código em situações críticas, mantendo o interesse público.

---

**QUESTÃO 30**

Conforme o artigo 58 da Lei Orgânica do município de Montes Claros (MG), a fiscalização contábil, financeira e orçamentária do município é realizada mediante controle externo e controle interno do Executivo, instituídos em lei, e executada pelo(a)

- A) Tribunal de Contas União.
- B) Câmara Municipal.
- C) Controladoria do Estado.
- D) Secretaria Estadual da Fazenda.
- E) Conselho Estadual de Contabilidade.

---

**PROVA DE INFORMÁTICA BÁSICA****QUESTÃO 31**

O aluno João, ao fim do semestre, obteve as seguintes médias mediante as notas obtidas:

	A
1	Notas
2	10
3	8
4	6
5	Média
6	8

Assinale a alternativa que contém a fórmula que foi aplicada para obter o resultado da célula A6:

- A) =MÉDIA(A2:A4)
- B) =MÉDIA(A2-A4)
- C) =MÉDIA(A2,A4)
- D) =SOMA(A2,A4)/3
- E) =SOMA(A2/A4)/3

---

**QUESTÃO 32**

No navegador Google Chrome, qual a função do atalho de teclado “Ctrl + Shift + N”?

- A) Fechar a aba atual.
- B) Abrir uma nova aba.
- C) Abrir uma janela anônima.
- D) Abrir a página inicial.
- E) Reabrir uma aba anônima.

---

**QUESTÃO 33**

Qual a função do preenchimento do campo ‘CCO’ no momento de escrita de um e-mail?

- A) Enviado para algum interessado, que é o destinatário principal, e pode ser visto por todos.
- B) Para enviar a algum interessado, mas quando você não quer que as pessoas vejam quem mais recebeu.
- C) Para enviar a vários destinatários sem anexos, mas quando você não quer que as pessoas vejam quem recebeu.
- D) Para enviar a algum interessado, você quer que as pessoas vejam quem mais recebeu.
- E) Para enviar o e-mail com anexos a algum interessado e com a confirmação de recebimento.

---

**QUESTÃO 34**

No software Power Point, o efeito visual que ocorre quando você passa de um slide para outro durante uma apresentação é conhecido por:

- A) Design.
- B) Variantes.
- C) Revisão.
- D) Transições.
- E) Representação.

---

**QUESTÃO 35**

O termo genérico para qualquer tipo de software malicioso projetado para prejudicar ou explorar qualquer dispositivo, serviço ou rede programável é conhecido por:

- A) Avast.
- B) Malwarebytes.
- C) Kaspersky.
- D) Firewall.
- E) Malware.



## PROVA DE CONHECIMENTOS GERAIS

### QUESTÃO 36

Enquanto deputados e senadores, reunidos no congresso, discutiam uma nova constituição para o país, os movimentos sociais (negros, indígenas, operários, feministas, entre outros) participaram intensamente dessas discussões, reivindicando direitos e exercendo a cidadania. Graças a essa intensa participação popular na Constituição de 1988, diversos avanços foram introduzidos. Qual avanço importante da constituição de 1988 está descrito **CORRETAMENTE**?

- A) Estabeleceu uma monarquia hereditária e centralizada, conhecida como a "Constituição Cidadã", buscando distribuir o poder entre os poderes Executivo, Legislativo e Judiciário.
- B) Previu quatro Poderes: Legislativo, Executivo, Judiciário e Moderador, esse exercido pelo imperador e acima dos demais Poderes, e também estabeleceu um rol extenso de direitos individuais.
- C) Tornou-se a primeira Constituição a incorporar valores republicanos, além de delinear as bases institucionais do novo regime, como o presidencialismo e o federalismo.
- D) Para os povos indígenas, o artigo 231 reconheceu que esta população tem os direitos originários sobre as terras que tradicionalmente ocupavam, sendo que, ao governo, caberia demarcá-las.
- E) O texto, inspirado nos modelos autoritários, conferiu plenos poderes ao Executivo, anulou a independência dos Poderes Legislativo e Judiciário, prevendo a pena de morte.

### QUESTÃO 37

Em Minas Gerais, desenvolveu-se um parque industrial diversificado. Assim, no estado, o desenvolvimento da mineração estimulou a instalação de indústrias de transformação de minerais, e essas indústrias atraíram investidores de outros segmentos industriais.

Sobre a industrialização mineira, leia o texto a seguir.

O desenvolvimento da indústria e das cidades se baseou no transporte e comunicação que existiam e exigiu a ampliação dessas \_\_\_\_\_. Para se desenvolverem, as indústrias precisam de \_\_\_\_\_, em Minas Gerais, desde o início da industrialização, são encontradas ótimas condições energéticas. Nas áreas industriais, o processo de \_\_\_\_\_ foi mais intenso, pois a indústria e os serviços das cidades passaram a atrair as pessoas do campo.

As palavras que completam **CORRETAMENTE** as lacunas do fragmento de texto apresentado são, na ordem:

- A) Vias, energia, urbanização.
- B) Redes, investimento, urbanização.
- C) Redes, energia, urbanização.
- D) Redes, energia, crescimento.
- E) Vias, investimento, crescimento.

### QUESTÃO 38

As cidades, especialmente as grandes e médias, concentram vários problemas ambientais: poluição das águas dos rios, córregos e lagos que cortam a área urbana ou localizados no seu entorno; excesso de lixo; poluição do ar pelos veículos, principalmente, ou pelas fábricas; poluição sonora; poluição visual. De modo geral, as médias e grandes cidades são mais quentes e mais chuvosas que as áreas rurais vizinhas. Sobre a questão ambiental nas cidades, associe a segunda coluna de acordo a primeira.

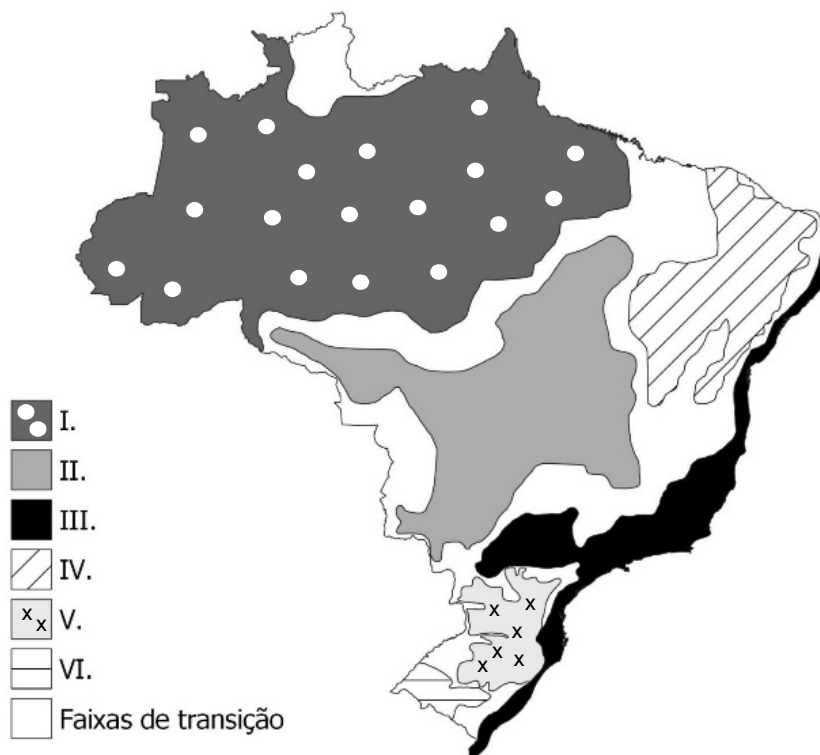
- |                     |     |   |
|---------------------|-----|---|
| 1 - Poluição do ar. | ( ) | A carência em vegetação e os enormes edifícios, que limitam a ação dos ventos, contribuem para sua formação na cidade, em especial nas grandes.                                 |
| 2 - Ilhas de calor. | ( ) | É um dos principais problemas nas áreas industrializadas, ocorre quando a poluição urbana se mistura com as partículas das nuvens, gerando ácidos como o sulfúrico e o nítrico. |
| 3 - Chuva ácida.    | ( ) | É causada pela emissão de poluentes atmosféricos, que são provenientes principalmente de veículos e indústrias, causam problemas de saúde, principalmente respiratórios.        |

A associação **CORRETA**, considerando-a de cima para baixo, é:

- A) 1, 3, 4.
- B) 2, 3, 1.
- C) 2, 1, 4.
- D) 3, 2, 1.
- E) 3, 1, 2.

### QUESTÃO 39

Os domínios Morfoclimáticos do Brasil são unidades paisagísticas que reúnem áreas com aspectos naturais em comum — como clima, relevo, vegetação, hidrografia e tipo de solo —, delimitados e estudados pelo geógrafo Aziz Ab'Saber. A seguir, veja-se o mapa dos domínios Morfoclimáticos do Brasil.



Disponível em: [https://www.tudogeo.com.br/banco\\_questoes/questao-de-geografia-dominios-morfoclimaticos-mapa/](https://www.tudogeo.com.br/banco_questoes/questao-de-geografia-dominios-morfoclimaticos-mapa/). Acesso em: 20 jul. 2024.

Pautado nos conhecimentos sobre o tema e a figura, marque a alternativa **CORRETA**.

- A) O Domínio Morfoclimático Amazônico, número II na figura, é a unidade paisagística de maior abrangência do país, compreendendo áreas em todos os estados das regiões Norte e Nordeste.
- B) O Domínio Morfoclimático da Caatinga, número I na figura, está presente integral ou parcialmente em todos os estados da região Nordeste do Brasil, e áreas no Sudeste, mais precisamente em Minas Gerais.
- C) O Domínio Morfoclimático do Cerrado, número II na figura, se estende por quatro diferentes regiões do Brasil, sendo mais abrangente nas regiões Centro-Oeste, Norte e Nordeste.
- D) As faixas de transição, número V na figura, possuem um limite ou uma fronteira bem delimitada que mostre o local exato onde termina um domínio morfoclimático e outro começa.
- E) O Domínio Morfoclimático das Araucárias, número V na figura, está presente na região Sul do Brasil, especialmente nos estados do Paraná e de Santa Catarina, e no norte do estado do Rio Grande do Sul.

### QUESTÃO 40

Apesar de o termo ter sido “emprestado” de uma das plataformas mais famosas, a uberização do trabalho não se restringe apenas aos motoristas de aplicativos nem surgiu com a Uber. Na verdade, a uberização do trabalho surgiu com o crescimento do modelo de negócio das plataformas digitais. Sobre este tema, marque a alternativa **VERDADEIRA**:

- A) A uberização do trabalho é um novo modelo de trabalho criado a partir de plataformas digitais, como Uber e iFood, que, apesar de prometer flexibilidade e ganhos financeiros, tais plataformas geram precarização dos trabalhadores.
- B) Essa política pública de trabalho é defendida pela junção dos governos e as empresas de tecnologia; o argumento é que ele oferece mais flexibilidade para ambas as partes; nesse contexto, o profissional seria “o seu próprio chefe”.
- C) As plataformas podem ser definidas como orquestradores de interações entre produtores, consumidores e os governos, portanto, têm características marcantes, como os prestadores dos serviços intermediados pela plataforma são terceirizados.
- D) Plataforma Digital é distinta do modelo de negócio da Uber, que é um aplicativo livre que reúne motoristas e autônomos, e os conecta com passageiros, tanto das grandes quanto das pequenas cidades, em busca de um meio de transporte.
- E) No Brasil, para ser mais específico, o termo surgiu junto à chegada da empresa Uber, em 2018, mas o tema só começou a ganhar força entre 2023 e 2024, enquanto o país atravessa uma crise econômica e os empregos informais só aumentavam.

