

CADERNO

402

FADENOR
FUNDAÇÃO DE APOIO AO DESENVOLVIMENTO DO ENSINO SUPERIOR DO NORTE DE MINAS

4 . 274 . 536

**CONCURSO PÚBLICO PARA PROVIMENTO DE CARGOS EFETIVOS
DA PREFEITURA MUNICIPAL DE MONTES CLAROS – MG**

EDITAL 2/2024
AGRUPAMENTO 2

Motociclista

ORIENTAÇÕES

- 01 - Este caderno contém questões do tipo múltipla escolha.
- 02 - Verifique se o caderno contém falhas: folhas em branco, má impressão, páginas trocadas, numeração errada, etc. Encontrando falhas, levante a mão. O Fiscal o atenderá e trocará o seu caderno.
- 03 - Não marque mais de uma resposta para a mesma questão, nem deixe nenhuma delas sem resposta. Se isso acontecer, a resposta não será computada.
- 04 - Para marcar as respostas, use preferencialmente caneta esferográfica com tinta azul ou preta. **NÃO** utilize caneta com tinta vermelha. Assinale a resposta certa, preenchendo toda a área da bolinha.
- 05 - Tenha cuidado na marcação da Folha de Respostas, pois ela não será substituída em hipótese alguma.
- 06 - Confira e assine a Folha de Respostas, antes de entregá-la ao Fiscal. **NA FALTA DA ASSINATURA, A SUA PROVA SERÁ ANULADA.**
- 07 - Não se esqueça de assinar a Lista de Presenças.

OBS.: Candidatos com cabelos longos deverão deixar as orelhas totalmente descobertas durante a realização das provas. É proibido o uso de boné.

NOME:

Nº DO PRÉDIO:

SALA:

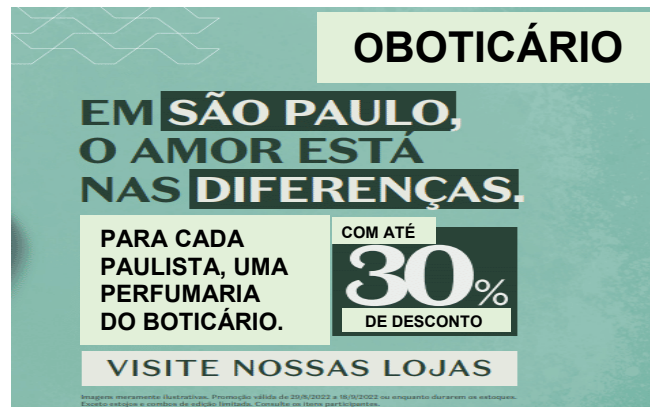
ASSINATURA

COTEC
CONCURSOS
TÉCNICOS

PROVA DE LÍNGUA PORTUGUESA

INSTRUÇÃO: Leia, com atenção, o texto a seguir para responder às questões 1, 2 e 3, que a ele se referem.

Texto 1



Disponível em: <https://marcaspelomundo.com.br/anunciantes/opusmultipla-assina-campanha-do-boticario-para-o-estado-de-sao-paulo/>.

Acesso em: 19 maio 2024. Adaptado.

QUESTÃO 01

A partir da análise do texto 1, pode-se afirmar que o seu principal objetivo é

- A) divulgar um produto específico, para um público-alvo específico.
- B) realizar uma campanha de divulgação do estado de São Paulo.
- C) realizar uma campanha de divulgação nacional de O Boticário.
- D) divulgar uma marca, para um público-alvo específico.
- E) realizar uma campanha de acolhimento aos turistas em São Paulo.

QUESTÃO 02

A partir dos elementos presentes na estrutura e da linguagem empregada no texto 1, é **CORRETO** afirmar que se trata de um texto

- A) injuntivo.
- B) descritivo.
- C) explicativo.
- D) expositivo.
- E) narrativo.

QUESTÃO 03

No trecho “visite nossas lojas”, é **CORRETO** afirmar que o verbo “visitar” está conjugado no

- A) imperativo negativo.
- B) imperativo afirmativo.
- C) infinitivo pessoal.
- D) presente do indicativo.
- E) presente do subjuntivo.

INSTRUÇÃO: Leia, com atenção, o texto a seguir para responder às questões 4 e 5.

Texto 2



Disponível em: <https://brainly.com.br/tarefa/32328019>. Acesso em: 19 maio 2024. Adaptado.

QUESTÃO 04

É **CORRETO** afirmar que a construção do humor, no texto 2, se dá, predominantemente, a partir

- A) dos sentidos adquiridos pela palavra “cultura”.
- B) da pergunta do personagem, no primeiro quadro.
- C) das onomatopeias presentes no terceiro quadro.
- D) do questionamento presente no segundo quadro.
- E) dos sentidos adquiridos pela palavra “veículo”.

QUESTÃO 05

Na fala do último quadro, os verbos “fosse”, “saltava”, “ia”, usados pela personagem Mafalda, encontram-se conjugados no

- A) pretérito perfeito.
- B) pretérito mais-que-perfeito.
- C) pretérito imperfeito.
- D) futuro do pretérito.
- E) futuro do presente.

QUESTÃO 06

Em relação à estrutura da palavra “ressurreição”, é **CORRETO** afirmar que possui

- A) 4 sílabas, 2 dígrafos e 2 ditongos.
- B) 4 sílabas, 2 dígrafos e 2 hiatos.
- C) 4 sílabas, 2 dígrafos e 2 tritongos.
- D) 5 sílabas, 3 dígrafos e 1 ditongos.
- E) 5 sílabas, 2 dígrafos e 2 ditongos.

INSTRUÇÃO: Leia a manchete a seguir, para responder às questões 7 a 9.

Texto 3



Disponível em: <https://blog.redebatista.edu.br/deputado-quer-limitar-debate-politico-dentro-da-sala-de-aula-jornal-o-tempo/>.

Acesso em: 19 maio 2024.

QUESTÃO 07

Tendo em vista o sentido em que a locução verbal “quer limitar” foi usada no texto 3, infere-se que se trata de uma

- A) dúvida.
- B) certeza.
- C) conclusão.
- D) contraste.
- E) pretensão.

QUESTÃO 08

No texto 3, as palavras “ideológico” e “político” foram usadas como

- A) pronomes.
- B) substantivos.
- C) adjetivos.
- D) advérbios.
- E) artigos.

QUESTÃO 09

Sobre a expressão “de aula”, presente no texto 3, é **CORRETO** afirmar que apresenta valor de

- A) adjetivo, pois caracteriza o substantivo “debate”.
- B) advérbio, pois modifica o substantivo “político”.
- C) advérbio, pois modifica a expressão “quer limitar”.
- D) adjetivo, pois caracteriza o substantivo “sala”.
- E) substantivo, pois completa a forma verbal “limitar”.

QUESTÃO 10

Em relação aos processos de formação de palavras da língua portuguesa, é **CORRETO** afirmar que as palavras “papelão”, “solteirão” e “chorão” surgiram, respectivamente, a partir de um

- A) substantivo, verbo e adjetivo, por meio do processo de derivação sufixal.
- B) substantivo, adjetivo e verbo, por meio do processo de derivação sufixal.
- C) substantivo, adjetivo e verbo, por meio do processo de derivação prefixal.
- D) adjetivo, verbo e substantivo, por meio do processo de derivação prefixal.
- E) adjetivo, substantivo e verbo, por meio do processo de derivação prefixal.

PROVA DE MATEMÁTICA

QUESTÃO 11

Um dentista, conhecido por seu comprometimento com os pacientes, atende em média 7 pessoas por dia em seu consultório. Considerando essa rotina, ao final de 5 dias úteis de trabalho, quantos pacientes o dentista terá atendido?

- A) 12.
 - B) 30.
 - C) 34.
 - D) 35.
 - E) 40
-

QUESTÃO 12

Em uma rotina agitada de atendimento, um dentista realizou 15 procedimentos odontológicos em um dia. No dia seguinte, ele conseguiu atender um paciente a mais do que no dia anterior. Para registrar o total de procedimentos realizados nesses dois dias de trabalho intenso, quantos procedimentos o dentista realizou no total?

- A) 32.
 - B) 31.
 - C) 30.
 - D) 16.
 - E) 15.
-

QUESTÃO 13

Durante um tratamento odontológico, o dentista realizou um procedimento que teve uma duração de 45 minutos. Para anotar o tempo exato do procedimento no prontuário do paciente, quantos segundos durou o tratamento?

- A) 45.
 - B) 90.
 - C) 2.700.
 - D) 3.600.
 - E) 4.500.
-

QUESTÃO 14

Em um consultório odontológico, o dentista se prepara diariamente para atender seus pacientes, utilizando luvas descartáveis para garantir a higiene e a segurança. O consultório possui 5 caixas de luvas e cada caixa contém 100 unidades. Para calcular o estoque total de luvas disponíveis no consultório, quantas luvas há no total?

- A) 100.
 - B) 150.
 - C) 500.
 - D) 1.000.
 - E) 5.000.
-

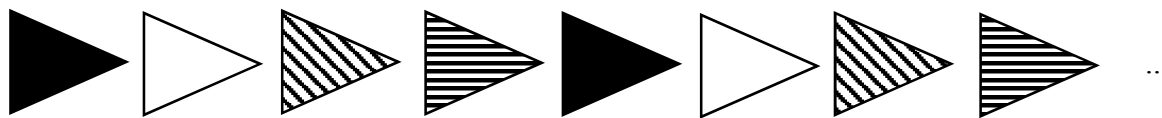
QUESTÃO 15

Durante a comemoração do aniversário de Pedro, ele e os seus pais decidiram oferecer uma festa especial para 50 convidados. Para garantir que todos fossem bem servidos, eles encomendaram 300 salgados variados, como coxinhas, quibes e empadas. Após a distribuição dos salgados entre os convidados, de forma que todos recebessem a mesma quantidade, quantos salgados cada pessoa recebeu?

- A) 60.
- B) 50.
- C) 4.
- D) 5.
- E) 6.

QUESTÃO 16

Um professor de matemática pediu aos alunos que analisassem uma sequência de triângulos. A sequência começa conforme a imagem abaixo e sempre repetindo na ordem apresentada. Qual das alternativas a seguir representa a figura correspondente à 38ª posição dessa sequência?



- A)
- B)
- C)
- D)
- E)

QUESTÃO 17

Em uma gincana escolar, os alunos foram divididos em dois grupos: os que têm números ímpares nas camisas e os que têm números pares. Se Ayla está no grupo dos números pares, qual dos seguintes números pode estar na camisa dela?

- A) 27.
- B) 45.
- C) 13.
- D) 32.
- E) 51.

QUESTÃO 18

Um dentista está analisando a arcada dentária de um paciente e observa que cada lado da arcada superior possui 8 dentes. No total, a arcada dentária superior tem 16 dentes. Para uma melhor avaliação, o dentista decide contar o número de dentes ímpares e pares presentes na arcada dentária superior.

Quantos dentes ímpares e quantos dentes pares há na arcada dentária superior, considerando que a numeração dos dentes começa em 1 e vai até 16?

- A) 10 dentes ímpares e 6 dentes pares.
- B) 7 dentes ímpares e 9 dentes pares.
- C) 9 dentes ímpares e 7 dentes pares.
- D) 6 dentes ímpares e 10 dentes pares.
- E) 8 dentes ímpares e 8 dentes pares.

QUESTÃO 19

Em um laboratório, um cientista registrou o número de amostras analisadas em cada dia da semana. No final da semana, o número total de amostras analisadas foi 234. Qual é a soma dos algarismos que compõem esse número total?

- A) 8.
- B) 9.
- C) 10.
- D) 11.
- E) 12.

QUESTÃO 20

Em uma loja de brinquedos, um gerente está organizando o estoque e nota que há 345 brinquedos em uma prateleira. Qual é o número de unidades, dezenas e centenas de brinquedos nessa prateleira?

- A) 5 unidades, 4 dezenas, 3 centenas.
- B) 5 unidades, 40 dezenas, 300 centenas.
- C) 5 unidades, 30 dezenas, 4 centenas.
- D) 45 unidades, 3 dezenas, 3 centenas.
- E) 50 unidades, 3 dezenas, 3 centenas.

PROVA DE LEGISLAÇÃO**QUESTÃO 21**

Após publicada a classificação definitiva dos candidatos aprovados no concurso público, qual prazo máximo para a homologação?

- A) 30 dias.
- B) 60 dias.
- C) 90 dias.
- D) 360 dias.
- E) 180 dias.

QUESTÃO 22

Após aprovação no concurso público e posse na prefeitura municipal, João ficará sujeito ao _____ em que sua aptidão e capacidade para desempenho no cargo serão avaliados. Assinale a alternativa que completa **CORRETAMENTE** a lacuna.

- A) estágio curricular.
- B) estágio disciplinar.
- C) estágio voluntário.
- D) estágio probatório.
- E) estágio extracurricular.

QUESTÃO 23

Conforme a legislação municipal de Montes Claros (MG), sem prejuízo da remuneração, em que circunstância o servidor poderá ausentar-se do serviço?

- A) Em qualquer dia da semana, desde que avise com antecedência.
- B) No dia do seu aniversário, conforme previsto na legislação.
- C) Não poderá ausentar-se, pois não há previsão legal para ausências sem motivo justificado.
- D) Poderá ausentar-se, desde que obtenha autorização do chefe imediato.
- E) Poderá ausentar-se apenas em caso de doença comprovada por atestado médico.

QUESTÃO 24

Havendo reclamação escrita contra o servidor, este será ouvido pela chefia imediata. Em relação a esse processo, é **CORRETO** afirmar que:

- A) O servidor não pode sofrer nenhuma sanção antes de uma audiência pública.
- B) A chefia imediata não tem competência para aplicar qualquer sanção ao servidor.
- C) O servidor será afastado de suas funções imediatamente após a reclamação escrita.
- D) A reclamação escrita contra o servidor só pode ser feita por seus colegas de trabalho.
- E) O servidor pode sofrer sanções disciplinares previstas na legislação.

QUESTÃO 25

Considere a seguinte situação: recentemente, um servidor público, João, utilizou sua posição para obter vantagens pessoais e receber comissões de uma empresa contratada para prestação serviços. Com base nas informações, analise as alternativas a seguir sobre a ação do funcionário público João e assinale a **CORRETA**.

- A) Agiu corretamente ao receber comissões pela contratação de empresas.
- B) Deverá ser promovido por conseguir obter comissões das empresas.
- C) Utilizou sua posição de maneira ética e correta na administração pública.
- D) Deverá ser recompensado por buscar benefícios adicionais para o setor.
- E) Violou a integridade do cargo ao obter vantagens pessoais e comissões.

QUESTÃO 26

Conforme a legislação a Administração Pública não se limita à distinção entre o bem e o mal, devendo incluir a busca pelo bem comum. O que, na conduta do servidor público, é consolidado pelo equilíbrio entre legalidade e finalidade?

- A) Penalidade.
- B) Moralidade.
- C) Eficiência.
- D) Transparência.
- E) Imparcialidade.

QUESTÃO 27

Qual comissão tem a função de fornecer os registros dos servidores aos órgãos responsáveis pelo plano de carreira para instruir promoções e outros procedimentos da carreira?

- A) Comissão de ética.
- B) Comissão de licitação.
- C) Comissão especial.
- D) Comissão disciplinar.
- E) Comissão executiva.

QUESTÃO 28

Suponha que você é um servidor público do Município de Montes Claros (MG) e percebe que um colega está sendo tratado de forma injusta pela chefia superior devido a antipatias pessoais. De acordo com o Estatuto dos Servidores Públicos do Município de Montes Claros, como você deve agir?

- A) Ignorar a situação, não é sua responsabilidade.
- B) Permitir a interferência de interesses pessoais.
- C) Informar a seus superiores e exigir providências.
- D) Aconselhar o colega a resolver a questão sozinho.
- E) Alinhar-se com o superior para evitar problemas.

QUESTÃO 29

Após tomar posse, um servidor público do Município de Montes Claros (MG), durante o seu expediente está utilizando recursos públicos de forma indevida para fins pessoais. De acordo com o Estatuto dos Servidores Públicos do Município de Montes Claros, qual seria a ação correta do responsável pelo setor?

- A) Comunicar imediatamente a seus superiores.
- B) Ignorar o comportamento do colega.
- C) Relatar o comportamento somente se for reincidente.
- D) Tentar resolver pessoalmente sem comunicar aos superiores.
- E) Conversar com o colega sem informar aos superiores.

QUESTÃO 30

Conforme Estatuto dos Servidores Públicos do Município de Montes Claros (MG), _____ é pessoa legalmente investida em cargo público, em caráter efetivo ou em comissão, ou detentora de função pública.

Qual a alternativa completa corretamente a lacuna acima?

- A) funcionário temporário.
- B) trabalhador contratado.
- C) estagiário.
- D) servidor público.
- E) voluntário.

PROVA DE INFORMÁTICA BÁSICA

QUESTÃO 31

De acordo com a planilha a seguir, qual função devemos usar para somar as colunas A1 e B1 na célula C1?

	A	B	C
1	5	7	

- A) =SOMA(A1.B1)
- B) =SOMA(A1,B1)
- C) =SOMA(A1-B1)
- D) =SOMA(A1'B1)
- E) =SOMA(A1:B1)

QUESTÃO 32

O comando ou atalho de teclado "Ctrl + x" tem como função:

- A) Copiar itens para a área de transferência.
- B) Colar itens da área de transferência.
- C) Excluir itens permanentemente.
- D) Recortar itens para a área de transferência.
- E) Renomear item selecionado.

QUESTÃO 33

Leia o trecho a seguir:

"[...] permite que um usuário visualize o desempenho do sistema, contém exibições que mostram o desempenho geral e o desempenho por Pacote/Processo, mostra os Usuários e Serviços atualmente conectados do computador e pode ser executado pelo atalho "Ctrl + Shift + Esc"."

A ferramenta mencionada no texto acima é conhecida no Microsoft Windows por:

- A) Terminal.
- B) Gerenciador de tarefas.
- C) Gerenciador de eventos.
- D) Explorador.
- E) Gerenciador de disco.

QUESTÃO 34

As extensões de arquivos são sufixos que designam seu formato e, principalmente, a função que desempenham no computador. Assinale a extensão que é padrão para arquivos do software Microsoft Word:

- A) .docx
- B) .xlsx
- C) .php
- D) .txt
- E) .pptx

QUESTÃO 35

Avalie o texto a seguir:

"Arquivos _____ assumem menos espaço de armazenamento e podem ser transferidos para outros computadores mais rapidamente. Combine vários arquivos em uma única pasta zipada para compartilhar um grupo de arquivos mais facilmente."

A palavra que completa o texto acima é:

- A) Desmembrados.
- B) Reduzidos.
- C) Compactados.
- D) Compilados.
- E) Condensados.

PROVA DE CONHECIMENTOS GERAIS**QUESTÃO 36**

Sob a influência dos Jesuítas, a Coroa Portuguesa proibiu a escravização dos indígenas, principal mão de obra da região. A escassez de mão de obra foi a principal responsável pelo conflito que explodiu no Maranhão, em 1864. Para contornar essa falta, a Coroa deveria transportar africanos e produtos de subsistência da região. Entretanto, os acordos não foram cumpridos e a situação se agravou. O texto refere-se a qual período histórico?

- A) Revolta de Beckman.
- B) Revolta Praieira.
- C) Revolta dos Amazonas.
- D) Revolta de Felipe Santos.
- E) Revolta dos Mascates.

QUESTÃO 37

O comércio é uma atividade econômica do setor terciário que consiste na compra e venda de mercadorias entre pessoas, empresas e serviços. Sobre o comércio, marque a alternativa **CORRETA**.

- A) O comércio interno ou internacional define-se como a compra e a venda de mercadorias entre países e é fundamental, pois alguns países são autossuficientes.
- B) No comércio varejista, as mercadorias são vendidas em grandes quantidades para os atacadistas e para compradores finais que adquirem grandes quantidades.
- C) O comércio varejista formal é constituído por estabelecimentos que não pagam impostos e por vendedores ambulantes que possuem carteira de trabalho assinada.
- D) No comércio atacadista, as mercadorias são vendidas diretamente ao consumidor final por supermercados e lojas e diversos estabelecimentos espalhados pelas localidades.
- E) O comércio é uma atividade que absorve grande parcela da população economicamente ativa, contribuindo de modo significativo para o desenvolvimento econômico.

QUESTÃO 38

Uma das principais formas de luta contra a escravidão foi a formação de quilombos por toda a América escravista e no Brasil. Sobre este tema, analise o seguinte fragmento de texto:

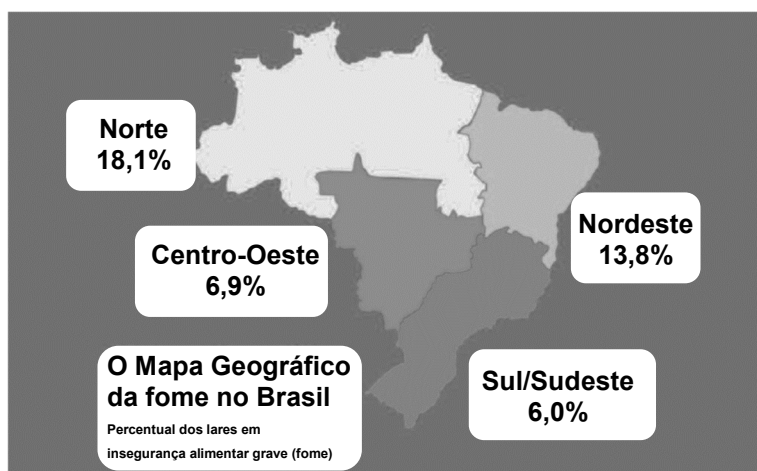
O maior e mais duradouro de todos os quilombos brasileiros foi o do _____. Os escravos se refugiaram na Serra da Barriga, uma região montanhosa do estado do _____. As pessoas viviam em liberdade e a seu modo num conjunto de _____ chamadas de mocambos.

As palavras que completam corretamente as lacunas do fragmento de texto apresentado são, na ordem:

- A) Palmares, Alagoas, sítios.
- B) Palmares, Sergipe, povoações.
- C) Palmares, Alagoas, povoações.
- D) Ambrósio, Alagoas, sítios.
- E) Ambrósio, Sergipe, sítios.

QUESTÃO 39

Segundo o jornal "Tapajós de fato" do dia 13/06/2024, "em menos de 10 anos Brasil volta para o mapa da fome, e 58,7% dos brasileiros convivem com a insegurança alimentar". A seguir, analise a figura:



Disponível em: <https://www.tapajosdefato.com.br/noticia/956/-em-menos-de-10-anos-brasil-volta-para-o-mapa-da-fome-e-58-7-dos-brasileiros-convivem-com-a-inseguranca-alimentar#:~:text=%C3%89%20um%20aumento%20de%207,aos%20da%20d%C3%A9cada%20de%201990>

Acesso em: 20 jul. 2024.

A partir de seus conhecimentos sobre as condições sociais e históricas do Brasil e do mapa apresentado, qual das alternativas é **VERDADEIRA**?

- A) Um dos impactos da pandemia foi a diminuição da produção de alimentos de subsistência, o que contribuiu para o aumento da miséria no mundo e no Brasil.
- B) Um fator que contribui para a fome são as mudanças climáticas, fazendo com que as produções de alimentos sejam impactadas, tendo perda com os eventos extremos ou até mesmo impedido de se plantar.
- C) Apenas a má gestão governamental, que negou a gravidade do vírus que matou milhares de brasileiros e brasileiras na pandemia, é responsável pela fome.
- D) A fome no Brasil é um problema histórico que, após diminuir por um período, voltou a crescer nos últimos anos e afeta uma parcela da população do país, especialmente nas áreas rurais e nas regiões Sul e Sudeste.
- E) As causas para a fome no Brasil compreendem desde questões culturais até políticas, destacando-se as desigualdades regionais (política, econômica, sanitária) e a má distribuição étnica.

QUESTÃO 40

A natureza se transforma na área que recebe um grande lago e serve de reservatório à hidrelétrica. Qual das afirmações apresentadas a seguir está de acordo com o esse acontecimento?

- A) Animais fogem para a cidade.
- B) Árvores são preservadas.
- C) Espécies de peixes aparecem.
- D) O clima se mantém fresco.
- E) Pessoas perdem novas casas.