

CADERNO

159



Unimontes

EVOLUINDO O CURSO DA VIDA

GRUPO 2

2º PROCESSO SELETIVO
UNIMONTES 2015

FARÃO ESTAS PROVAS OS CANDIDATOS AOS CURSOS DE

ENGENHARIA CIVIL - DIURNO
SISTEMAS DE INFORMAÇÃO - DIURNO

DIA 28/06/2015

TARDE

EXATAS

Ficha de Identificação

NOME:		
CURSO:	TURNO:	Nº INSCRIÇÃO:
Nº DO PRÉDIO:	SALA:	ASSINATURA

COTEC

COMISSÃO

TÉCNICA DE

CONCURSOS

ORIENTAÇÕES IMPORTANTES

- 01 - Este caderno contém questões do tipo múltipla escolha e uma redação.
- 02 - Verifique se o caderno contém falhas: folhas em branco, má impressão, páginas trocadas, numeração errada, etc. Encontrando falhas, levante a mão. O Fiscal o atenderá e trocará o seu caderno.
- 03 - Cada questão do tipo **MÚLTIPLA ESCOLHA** tem 4 (quatro) alternativas (A - B - C - D). Apenas 1 (uma) resposta é correta. Não marque mais de uma resposta para a mesma questão, nem deixe nenhuma delas sem resposta. Se isso acontecer, a questão será anulada.
- 04 - Para marcar as respostas definitivas na sua Folha de Respostas do tipo **MÚLTIPLA ESCOLHA**, use caneta esferográfica com tinta azul ou preta. **NÃO** utilize caneta com tinta vermelha ou lápis. Assinale a resposta certa, preenchendo toda a área da bolinha ●
- 05 - Todos os candidatos **poderão** ser identificados pela impressão digital.
- 06 - **Ao receber as Folhas de Respostas, confira:**
 - Se é a sua Folha (ela está personalizada).
 - Se os dados do cabeçalho conferem com os seus dados (nome, nº de identidade, nº de inscrição, opção de língua estrangeira, data de nascimento, etc.).
- 07 - Tenha cuidado na marcação da Folha de Respostas, pois ela não será substituída em hipótese alguma.
- 08 - A **REDAÇÃO** deverá ser escrita com caneta esferográfica (tinta azul ou preta), nos espaços reservados. A PROVA FEITA A LÁPIS SERÁ ANULADA E TERÁ NOTA ZERO.
- 09 - Se usar letra de FORMA, deverão ser observadas as normas de acentuação gráfica.
- 10 - O **Caderno de Resposta da REDAÇÃO não** poderá ter qualquer outra identificação do candidato, além da já existente. Aparecendo o nome ou número de inscrição fora da Ficha de Identificação, a Prova será anulada e computada a nota zero.
- 11 - Confira e assine a Folha de Respostas, antes de entregá-la ao Fiscal. **NA FALTA DA ASSINATURA, A SUA PROVA SERÁ ANULADA.**
- 12 - Não se esqueça de assinar a Lista de Presenças.
- 13 - Preencha corretamente a Ficha de Identificação colocada na capa deste caderno.
- 14 - **DUAS HORAS** após o início das provas, você poderá retirar-se da sala SEM LEVAR ESTE CADERNO. **NÃO** poderá levar nem mesmo a última folha do caderno de provas (folha de rascunho) ou anotações referentes às provas e suas respostas.
- 15 - Em nenhuma hipótese, o candidato poderá levar o Caderno de Provas e/ou as Folhas de Respostas.
- 16 - Somente durante os 30 (trinta) minutos que antecedem o término das provas poderão os candidatos copiar, em formulário próprio a ser entregue pelo fiscal, as anotações e/ou marcações feitas na sua Folha de Respostas das Provas de Múltipla Escolha.
- 17 - No encerramento das provas, há necessidade de pelo menos dois candidatos presentes na sala. Isso faz parte das normas para transparência na fiscalização do Processo Seletivo.
- 18 - Se o **Cartão de Inscrição** estiver com algum erro (nome, nº de documento, endereço, etc.), peça ao Fiscal de Sala para providenciar as correções necessárias no **Requerimento de Correções**.

DURAÇÃO DESTAS PROVAS: CINCO HORAS

OBS.: Candidatos com cabelos longos deverão deixar as orelhas totalmente descobertas durante a realização das provas. É proibido o uso de boné.

PROVA DE LÍNGUA PORTUGUESA E LITERATURA BRASILEIRA

Questões numeradas de 01 a 20

INSTRUÇÃO: Leia o texto I e responda às questões de 01 a 11, que a ele se referem ou o tomam como ponto de partida.

TEXTO I

A história do ódio no Brasil

Fred di Giacomo

- 1 “Achamos que somos um bando de gente pacífica, cercados por pessoas violentas”. A frase que bem define o brasileiro e o ódio no qual estamos imersos é do historiador Leandro Karnal. A ideia de que nós, nossas famílias ou nossa cidade são um poço de civilidade em meio a um país bárbaro é comum no Brasil. O “mito do homem cordial”, costumeiramente mal interpretado, acabou virando o mito do “cidadão de bem 5 amável e simpático”. Pena que isso seja uma mentira. “O homem cordial não pressupõe bondade, mas somente o predomínio dos comportamentos de aparência afetiva”, explica o sociólogo Antonio Candido. O brasileiro se obriga a ser simpático com os colegas de trabalho, a receber bem a visita indesejada e a oferecer o pedaço do chocolate para o estranho no ônibus. Depois fala mal de todos pelas costas, muito educadamente.
- 10 Olhemos o dicionário: cordial significa referente ou próprio do coração. Ou seja, significa ser mais sentimental e menos racional. Mas o ódio também é um sentimento, assim como o amor. (Aliás, os neurocientistas têm descoberto que ambos os sentimentos ativam as mesmas partes do cérebro.) Nós odiamos e amamos com a mesma facilidade. Dizemos que gostaríamos de morar num país civilizado como a Alemanha ou os Estados Unidos, mas que aqui no Brasil não dá para ser sério. Queremos resolver tudo 15 num passe de mágica. [...] e assim seguimos nossa espiral de ódio e de comportamentos irracionais, [...] como a rainha louca de Alice no País das Maravilhas.
- Ninguém para 5 segundos para pensar no que fala ou no que comenta na internet. Grita-se muito alto e depois volta-se para a sala para comer o jantar. Pede-se para matar o menor infrator e depois gargalha-se com o humorístico da televisão. Não gostamos de refletir, não gostamos de lembrar em quem votamos na 20 última eleição e não gostamos de procurar a saída que vai demorar mais tempo, mas será mais eficiente. [...]
- O já citado Leandro Karnal diz que os livros de história brasileiros nunca usam o termo guerra civil em suas páginas. Preferimos dizer que guerras que duraram 10 anos (como a Farroupilha) foram revoltas. Foram “insurreições”. O termo “guerra civil” nos parece muito “exagerado”, muito “violento” para um povo tão “pacífico”. A verdade é que nunca fomos pacíficos. A história do Brasil é marcada sempre por violência, 25 torturas e conflitos. As decapitações que chocam nos presídios eram moda há séculos e foram aplicadas em praça pública para servir de exemplo nos casos de Tiradentes e Zumbi. As cabeças dos bandidos de Lampião ficaram expostas em museu por anos. Por aqui, achamos que todos os problemas podem ser resolvidos com uma piada ou com uma pedrada. [...] Basta lembrar que por aqui a república foi proclamada por um golpe militar. E que golpes e revoluções parecem ser a única solução possível para consertar esse 30 país. A força é a única opção para fazer o outro entender que sua ideia é melhor que a dele? O debate saudável e a democracia parecem ideias muito novas e frágeis para nosso país. [...]
- Quanto à questão racial, morrem 133% mais negros do que brancos no Brasil. E mais: o número de brancos mortos entre 2002 e 2010 diminuiu 25%, ao contrário do número de negros que cresceu 35%. É importante entender, no entanto, que essas mortes não são causadas apenas por bandidos em ações 35 cotidianas. Um dado expressivo: no estado de São Paulo ocorreram 344 mortes por latrocínio (roubo seguido de morte) no ano de 2012. No mesmo ano, foram mortas 546 pessoas em confronto com a PM. Esses números são altos, mas temos índices ainda mais altos de mortes por motivos fúteis (brigas de trânsito, conflitos amorosos, desentendimentos entre vizinhos, violências domésticas, brigas de rua, etc.). [...]
- 40 O discurso de ódio invade todos os lares e todos os segmentos. Agora que o gigante acordou e o Brasil resolveu deixar de ser “alienado”, todo mundo odeia tudo. O colunista da Veja odeia o âncora da Record que odeia o policial que odeia o manifestante que odeia o político que odeia o pastor que odeia o “marxista” que odeia o senhor “de bem” que fica em casa odiando o mundo inteiro em seus comentários nos

portais da internet. Para onde um debate rasteiro como esse vai nos levar? Gritamos e gritamos alto, mas 45 gritamos por quê?

[...] A cada escândalo de corrupção, a cada pedreiro torturado, a cada cinegrafista assassinado, a cada dentista queimada, a cada homossexual espancado, todos perdemos. Perdemos a chance de conseguir dialogar com o outro e ganhamos mais um motivo para odiar quem defende aquilo com que não concordamos.

50 [...] Precisamos parar para respirar e pensar o que queremos e como queremos. Dialogar. Entender as vontades do outro. O Brasil vive um momento de efervescência. Vamos usar essa energia para melhorar as coisas ou ficar nos matando com rojões, balas e bombas? Ou ficar prendendo trombadinhas no poste, torturando pedreiros e chacinando pessoas na periferia? [...] Exigir a volta da ditadura? Ameaçar de morte quem faz uma piada de que não gostamos? [...]

55 Será que não precisamos de mais inteligência e informação e menos ódio? [...] Quando vamos começar a assumir que, sim, somos um povo violento e que estamos cansados da violência? Que queremos sofrer menos violência e provocar menos violência? [...]

(Disponível em: <<http://www.revistaforum.com.br/blog/2014/02/a-historia-do-odio-no-brasil/>>, publicado em: 26 fev. 2014, às 17h59, acesso em: 25 mar. 2015 – adaptado.)

QUESTÃO 01

Indique a **única** alternativa que **NÃO** demonstra um comportamento de aparência afetiva, segundo o texto.

- A) Receber bem a visita indesejada.
- B) Obrigar-se a ser simpático com os colegas de trabalho.
- C) Falar mal de todos pelas costas.
- D) Oferecer um chocolate para o estranho no ônibus.

QUESTÃO 02

Indique a **única** alternativa **CORRETA**, de acordo com o texto.

- A) Cordialidade não implica, necessariamente, bondade.
- B) A cordialidade torna-se inviável num país que não é sério.
- C) O ódio pressupõe menos racionalidade que o amor.
- D) Para ser cordial, é necessário que sejamos, antes de tudo, pessoas boas.

QUESTÃO 03

Podemos inferir das ideias do texto que todas estas atitudes deveriam pautar as relações humanas e sociais, **EXCETO**

- A) gentileza.
- B) sentimentalismo.
- C) civilidade.
- D) simpatia.

QUESTÃO 04

Para o locutor do texto, que termo parece mais apropriado para designar o acontecimento histórico brasileiro chamado Farroupilha?

- A) Tortura.
- B) Insurreição.
- C) Revolta.
- D) Guerra civil.

QUESTÃO 05

INSTRUÇÃO: Para responder à questão 05, relacione o poema que se segue, de Carlos Drummond de Andrade, ao fragmento do texto I, que vai das linhas 41 até 44.

Quadrilha

João amava Teresa que amava Raimundo
que amava Maria que amava Joaquim que amava Lili
que não amava ninguém.
João foi para os Estados Unidos, Teresa para o convento,
Raimundo morreu de desastre, Maria ficou para tia,
Joaquim suicidou-se e Lili casou com J. Pinto Fernandes
Que não tinha entrado na história.

(ANDRADE, Carlos Drummond. *Antologia Poética*. São Paulo: Companhia das Letras, 2012.)

Do ponto de vista das relações temáticas, o fragmento lido, em relação com o poema,

- A) subverte as ideias desse poema.
- B) ironiza as ideias desse poema.
- C) mostra que são fúteis as ideias desse poema.
- D) endossa as ideias desse poema.

QUESTÃO 06

O locutor do texto afirma que “O debate saudável e a democracia parecem ideias muito novas e frágeis para nosso país.” (Linhas 30-31)

Todas estas asserções retiradas do texto corroboram a afirmação acima, **EXCETO**

- A) “[...] não gostamos de procurar a saída [...] mais eficiente.” (Linha 20).
- B) “O Brasil vive um momento de efervescência.” (Linha 51).
- C) “[...] índices [...] altos de mortes por motivos fúteis [...]” (Linha 37).
- D) “[...] golpes e revoluções parecem ser a única solução possível para consertar esse país.” (Linhas 29-30).

QUESTÃO 07

Sob o ponto de vista do sentido, atente para o trecho que se segue, de acordo com o contexto em que se apresenta:

“Precisamos parar para respirar e pensar o que queremos e como queremos.” (Linha 50).

Por meio das relações de sentido que se estabelecem nesse trecho, somente **NÃO** se pode afirmar que

- A) o brasileiro não sabe o que quer.
- B) o brasileiro não para para respirar, ponderar sobre questões de seu país.
- C) o brasileiro nada mais espera de seu país.
- D) o brasileiro não tem uma ideia formulada de como as coisas deveriam ser no Brasil.

QUESTÃO 08

Em qual das alternativas a seguir o recurso em destaque aponta para uma oração adversativa, a qual vai criar uma quebra da expectativa, ao final do período em que ela se insere?

- A) “Não gostamos de refletir, não gostamos de lembrar em quem votamos na última eleição e não gostamos de procurar a saída que vai demorar mais tempo, mas será mais eficiente.” (Linhas 19-20).
- B) “Pede-se para matar o menor infrator e depois gargalha-se com o humorístico da televisão.” (Linhas 18-19).
- C) “Perdemos a chance de conseguir dialogar com o outro e ganhamos mais um motivo para odiar quem defende aquilo com que não concordamos.” (Linhas 47-49).
- D) “O brasileiro se obriga a ser simpático com os colegas de trabalho, a receber bem a visita indesejada e a oferecer o pedaço do chocolate para o estranho no ônibus.” (Linhas 6-8).

QUESTÃO 09

A concordância tem sido entendida como um “fenômeno gramatical no qual a forma de uma palavra numa sentença é determinada pela forma de outra palavra com a qual tem alguma ligação gramatical. [...] é um dos fenômenos mais comuns, nas línguas em geral [...]” (TRASK, R. L. *Dicionário de linguagem e linguística*. Trad. e adpt.: R. Ilari. São Paulo: Contexto, 2004, p. 61.)

Nesse sentido, analise a ligação entre as palavras, no trecho que se segue, e assinale a alternativa **CORRETA**.

“A frase que bem define o brasileiro e o ódio no qual estamos imersos é do historiador Leandro Karnal.” (Linhas 1-2).

- A) A palavra “estamos” liga-se a “nós”, que, nesse trecho, está elíptico.
- B) A palavra “é” liga-se a “o ódio”.
- C) A palavra “é” liga-se a “o brasileiro”.
- D) A palavra “estamos” liga-se a “o brasileiro e o ódio”.

QUESTÃO 10

Os verbos que aparecem nos trechos abaixo selecionados estão todos na forma plural, entretanto há, entre eles, um que exprime uma diferença em relação aos demais, ou seja: convida-se o interlocutor a cumprir, junto com o locutor, a ação indicada pelo verbo.

Qual é a alternativa em que ocorre essa diferença?

- A) “Olhemos o dicionário: cordial significa referente ou próprio do coração.” (Linha 10).
- B) “Dizemos que gostaríamos de morar num país civilizado como a Alemanha ou os Estados Unidos, mas que aqui no Brasil não dá para ser sério.” (Linhas 13-14).
- C) “Achamos que somos um bando de gente pacífica, cercados por pessoas violentas”. (Linha 1).
- D) “Precisamos parar para respirar e pensar o que queremos e como queremos.” (Linha 50).

QUESTÃO 11


Os textos se utilizam de recursos para articular as suas partes. Nesse caso, os vocábulos a seguir se articulam para fazer referência a, **EXCETO**

- A) “essa” (linha 51), em “essa energia” → remete a “um momento de efervescência”.
- B) “dele” (linha 30) → retoma “o outro”.
- C) “isso” (linha 5) → remete ao “mito do ‘cidadão de bem, amável e simpático’ ”.
- D) “essas” (linha 34), em “essas mortes” → remete a “mortes por motivos fúteis”.

QUESTÃO 12

INSTRUÇÃO: Leia e analise a charge a seguir.

Texto II



(Disponível em: <<http://4.bp.blogspot.com>>, último acesso em: 25 mar. 2015.)

Evidenciam-se, no texto II, considerando os objetivos do gênero charge, temáticas que norteiam alguns aspectos por nós vivenciados na sociedade atual, ao serem analisadas as informações verbais e as imagens associadas a esses personagens. Entre essas temáticas, podem-se destacar, **EXCETO**

- A) Nossa sociedade vivencia realidades que são paradoxais: poucos com muito e muitos com pouco.
- B) A crise a qual atravessa a nossa sociedade é mais de ordem existencial, pois, embora não se tenha comida na mesa, tem-se a aquisição dos aparelhos de última geração, mesmo por aqueles que vivem abaixo da linha da pobreza.
- C) Há uma linha de divisão social em conflito, no entanto a sociedade tem sido, até o momento, incapaz de derrubar os muros que disseminam as diferenças socioeconômicas ou de reduzi-las.
- D) Há um hedonismo em favor de alimentar desejos descartáveis, ao mesmo tempo em que ficamos insensíveis diante de problemas sociais como a miséria e a fome.

QUESTÃO 13

Sobre o filme *A menina que roubava livros*, assinale a alternativa **INCORRETA**.

- A) Constata-se, no filme, um entrecruzamento de vozes e discursos – o que o torna uma narrativa polifônica.
- B) A experiência narrada de Liesel transcende o significado histórico da Guerra e adquire dimensão sobrenatural.
- C) O filme possibilita uma experiência de autêntica reflexão sobre a dor da protagonista.
- D) A narrativa impõe à personagem principal um discurso de silêncio, o qual é compensado pela leitura dos livros que ela roubava.

QUESTÃO 14

A partir do texto em destaque, assinale alternativa **INCORRETA** sobre o livro *Alguma Literatura*, de João Caetano Canela.

Crônica é uma narrativa relacionada a temas do cotidiano. No Brasil, a crônica ganhou força na década de 30, e o gosto popular na década de 60, quando passou a ser publicada em jornais e revistas. Diferente de contos, poemas, romances e outros gêneros literários, a crônica é escrita em estilo pessoal, podendo ser composta com base nas opiniões e recordações do autor e fatos da sociedade em que ele vive.

- A) A vida e seus motivos prosaicos ganham feição personalíssima na escrita do autor.
- B) A linguagem, predominantemente culta e elegante, revela o olhar sensível do narrador.
- C) O título do livro expressa que a natureza das crônicas pode ou não ser literária.
- D) A visão do narrador é intimista, poética e bem-humorada, na maior parte das crônicas.

QUESTÃO 15

Leia o seguinte trecho da obra *Passaporte para a China*, de Lygia Fagundes Telles.

Vou lendo nas tabuletas os nomes das praças, das ruas e muitas são minhas conhecidas, pois por elas passaram tantas personagens de livros que li desde a adolescência. (TELLES, 2011, p. 19.)

Assinale a alternativa **INCORRETA**.

- A) O trecho evidencia que a narradora era uma leitora de longa data.
- B) O trecho revela que a viagem da narradora acontece no plano do imaginário.
- C) O trecho revela que a experiência da viagem acontece sob dois aspectos.
- D) O trecho expressa o olhar atento e saudosista da viajante.

QUESTÃO 16

A partir da leitura do trecho do conto “121 homem de deus”, livro *Passaporte*, de Fernando Bonassi, responda ao que se pede.

Era ninguém. Vivia perdido pelas ruas da amargura mais azeda. Nunca soube direito o que fazer. Quando achava que sabia, não encontrava. Minha mulher me largou por outra que tinha quase tudo o que eu não tenho, levando as crianças qu’eu também não podia criar. (São Paulo, Brasil, 1996.) (BONASSI, 2013.)

Assinale alternativa **INCORRETA** sobre o conto.

- A) O conto ressalta o lugar comum da linguagem, evidenciando o lugar do homem incomum na sociedade moderna.
- B) “O legado de nossa miséria”, trecho de uma obra machadiana, pode servir de ilustração ao trecho em destaque.
- C) O conto apresenta uma visão niilista e crítica do narrador acerca de si e de sua própria vida.
- D) O conto iguala as figuras do homem e de deus, para evidenciar a desesperança absoluta que se abate sobre a vida do personagem.

QUESTÃO 17

Se considerarmos o livro *Passaporte*, de Fernando Bonassi, em termos de linguagem e estilo, pode-se concluir que

- A) as narrativas evidenciam o teor político do discurso, pois mostram, como pano de fundo, as misérias dos países afetados pela pobreza e corrupção.
- B) as narrativas apresentam temas variados, que discorrem sobre as viagens de um cidadão cosmopolita, elegante e refinado.
- C) as narrativas curtas, o olhar difuso, o uso de uma linguagem popular e, às vezes, ofensiva tentam reproduzir o ambiente caótico e desumano que se alastra nos centros urbanos.
- D) as narrativas não refletem as vidas urbanas, mas tão somente o olhar descrente, autocomplacente e irônico do narrador.

QUESTÃO 18

Sobre o filme *A menina que roubava livros* e sobre os contos “A menina de lá”, de Guimarães Rosa, e “Felicidade Clandestina”, de Clarice Lispector, todas as alternativas abaixo são corretas, **EXCETO**

- A) Em “A menina de lá”, a perplexidade da existência é expressa pela linguagem.
- B) As obras representam a expressão inverossímil e impresumível da experiência infantil.
- C) “Felicidade Clandestina” figura a experiência inefável que a leitura possibilita.
- D) *A menina que roubava livros* apresenta o poder da palavra como fator de mudanças.

QUESTÃO 19

Sobre a obra *Alguma Literatura: crônicas*, de João Caetano Canela, todas as afirmativas abaixo estão corretas, **EXCETO**

- A) As crônicas contextualizam as vivências dos narradores.
- B) O texto apresenta-se atravessado por discursos de Histórias.
- C) Crônicas problematizam a contemporaneidade do autor.
- D) Há, na obra, um centramento do sujeito em um tempo por vir.

QUESTÃO 20

Sobre o conto “Sorôco, sua mãe, sua filha”, de Guimarães Rosa, pode-se afirmar, **EXCETO**

- A) A narrativa apresenta uma percepção solidária que se pode ter frente à dor dos outros.
- B) O conto representa a loucura de sujeitos em um contexto de inadequação.
- C) A narrativa é uma parábola de problemas existentes entre pais, filhos e netos.
- D) No texto, o cantar aponta para uma insanidade – ainda que instantânea.

PROVA DE LÍNGUA ESPANHOLA
Questões numeradas de 21 a 26

INSTRUÇÃO: Leia os textos que se seguem e depois responda às questões propostas. Volte ao texto quando necessário.

Texto 1

1 Estaban tres niños jugando que se llamaban Nadie, Tonto y Ninguno. Uno de ellos se cae al agua, otro fue a pedir ayuda y otro lo intentaba rescatar. Llega Tonto a la policía y les dice: Necesito ayuda! Nadie se cayó al agua y ninguno lo está rescatando! El policía lo mira y le dice:

-¿Usted es tonto?

5 -Si señor ¿cómo lo sabe?

(Fonte: Vea, Enero de 2015/Chile.)

Texto 2

1 Llega Jaimito a una iglesia y le pregunta el sacerdote que por allí pasaba:

-Jaimito, ¿Quieres ser cristiano?

-No... ¡Quiero ser Messi!

(Fonte: Vea, Enero de 2015/Chile.)

Texto 3

1 Una rubia con ganas de ligar le pregunta a un chico que estaba tomando un café: -¿Hola cómo te llamas?

-Leo...

-¿Y qué lees?

-No no, que soy Leo!

5 -Ah, pues yo sagitario!

(Fonte: Vea, Enero de 2015/Chile.)

Texto 4

1 Llega un hombre a las 7 de la mañana a un bar: -¡Me pone un zumo de naranja?

-¿...natural...?

-Soy de Segovia, pero no creo que eso vaya a mejorar el zumo...

(Fonte: Vea, Enero de 2015/Chile.)

Texto 5

- 1 Me he comprado un pañuelo precioso, me quita al menos 20 años de vida!
-Puede que si... ¿Cuántos años tienes?
-Cuarenta!
-No no, yo te decía sin descontar los que te quita el pañuelo!

(Fonte: Veá, Enero de 2015/Chile.)

Texto 6

- 1 Dos amigos hablando: -¡Hoy he vuelto a ver el video de mi boda!
-¿Qué dices? ¿Y te gustó?
-Pues sí, pero lo vi al revés... lo mejor de todo cuando le quito el anillo salgo de la iglesia y me voy de fiesta con mis amigos!!

(Fonte: Veá, Enero de 2015/Chile.)

QUESTÃO 21

De acordo com o texto 1, pode-se inferir que

- A) o policial entendeu que ninguém havia caído na água.
- B) Tonto disse ao policial que ninguém resgatou o rapaz que havia caído.
- C) três crianças que estavam brincando se afogaram.
- D) Tonto admitiu para a polícia que não era inteligente.

QUESTÃO 22

Sobre o texto 2, **NÃO** podemos afirmar:

- A) Jaimito queria ser Messi.
- B) Jaimito não queria ser Cristiano Ronaldo.
- C) Jaimito não queria ser católico.
- D) O padre perguntou a Jaimito se ele queria ser cristão.

QUESTÃO 23

Sobre a moça de que trata o texto 3, pode-se afirmar que

- A) pensou que o signo do rapaz fosse leão.
- B) o rapaz não respondeu às suas perguntas porque a achou muito atrevida.
- C) é uma moça ruiva.
- D) mudava de assunto constantemente para testar o rapaz.

QUESTÃO 24

Em relação ao texto 4, a piada consiste na interpretação inadequada da palavra:

- A) “zumó” (linha 1).
- B) “natural” (linha 2).
- C) “Segovia” (linha 3).
- D) “naranja” (linha 1).

QUESTÃO 25

Sobre o lenço de que trata o texto 5, pode-se dizer:

- A) O material do lenço era caro.
- B) Tinha o poder de rejuvenescer uma pessoa porque era mágico.
- C) A amiga da mulher que o comprou achou que esta se enganou em relação à sua idade.
- D) Segundo a amiga da senhora do lenço, esta teria aproximadamente 60 anos.

QUESTÃO 26

Sobre os termos sublinhados, assinale a alternativa **CORRETA** tendo em vista o termo a que eles se referem.

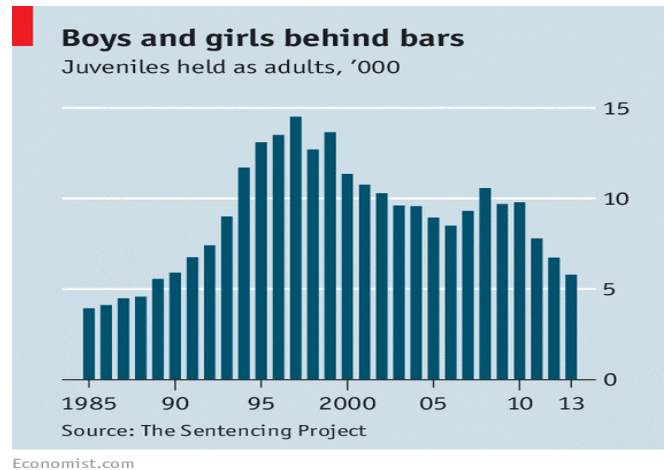
- A) “... le pregunta...” (texto 2, linha 1) – “Sacerdote” (texto 2, linha 1).
- B) “... le quito ...”(texto 6, linha 3) – “la Iglesia” (texto 6, linha 3).
- C) “... lo vi al revés...” (texto 6, linha 3) – “el video” (texto 6, linha 1).
- D) “... le pregunta...”(texto 3, linha 1) – “una rubia” (texto 3, linha 1).

PROVA DE LÍNGUA INGLESA
Questões numeradas de 21 a 26

Instrução: Leia os textos que se seguem para responder às questões propostas.

Texto 01

Children in adult jails



- 1 The practice of charging young people as adults gained momentum in America in the 1990s, as youth crime spiked. Between 1990 and 2010 the number of juveniles in adult jails went up by nearly 230% (see chart). Now about a tenth of confined young people are in an adult prison or jail. This is bad for two reasons. It is costly: more than \$31,000, on average, to incarcerate an adult for a year. And it tends to turn young
- 5 tearaways into serious criminals. Young people who are charged as adults are nearly 35% likelier to be rearrested than those who are tried as juveniles, according to the Centres for Disease Control.

(Fonte: theeconomist.com)

QUESTÃO 21

Assinale a alternativa **CORRETA** de acordo com o gráfico.

- A) Entre os anos de 1990 e 1995, houve uma ligeira queda no número de adolescentes em prisões específicas para a faixa etária.
- B) Em 2008, mais de 10 mil meninos e meninas foram presos nos EUA.
- C) Ao compararmos os anos de 1990 e 1995, observa-se um aumento de 50% no número de crianças e adolescentes presos.
- D) O ano de 1997 registrou o maior índice de menores infratores sob a custódia da Vara da Infância, nos EUA.

QUESTÃO 22

Assinale a alternativa **INCORRETA** de acordo com o texto.

- A) Os jovens que são presos como adultos estão propensos a reincidir no crime.
- B) Os custos com o encarceramento de um adulto é maior que trinta e um mil dólares por ano.
- C) O percentual de 230% refere-se ao aumento do número de jovens em prisões de adultos entre os anos de 1990 e 2010.
- D) O número de jovens confinados em prisões de adultos aumentou dez vezes.

QUESTÃO 23

“Young people who are charged as adults are nearly 35% likelier to be rearrested than those who are tried as juveniles...”(Linhas 5-6)

A palavra sublinhada no texto acima é formada por prefixação. Assinale a única alternativa que **NÃO** apresenta uma palavra formada pelo mesmo processo.

- A) Reorganize.
- B) Renunciation.
- C) Reunification.
- D) Restructure.

Texto 02

Use of E-Cigarettes Rises Sharply Among Teenagers, Report Says

1 E-cigarettes have arrived in the life of the American teenager.

Use of the devices among middle- and high school students tripled from 2013 to 2014, according to federal data released on Thursday, bringing the share of high school students who use them to 13 percent — more than smoke traditional cigarettes.

5 About a quarter of all high school students and 8 percent of middle school students — 4.6 million young people altogether — used tobacco in some form last year. The sharp rise of e-cigarettes, together with a substantial increase in the use of hookah pipes, led to 400,000 additional young people using a tobacco product in 2014, the first increase in years, though researchers pointed out the percentage of the rise fell within the report's margin of error.

10 But the report also told another story. From 2011 to 2014, the share of high school students who smoked traditional cigarettes declined substantially, to 9 percent from 16 percent, and use of cigars and pipes ebbed too. The shift suggested that some teenage smokers may be using e-cigarettes to quit.

(www.nytimes.com april, 16, 2015.)

QUESTÃO 24

Segundo o texto, é **INCORRETO** afirmar:

- A) 25% de todos os alunos do Ensino Médio usaram tabaco de alguma forma, no ano passado.
- B) 13% refere-se ao percentual de estudantes que usa cigarro eletrônico.
- C) A mudança percebida por meio da pesquisa realizada revela que a maioria dos fumantes pode estar usando cigarros eletrônicos para parar de fumar.
- D) Entre 2011 e 2014, o percentual de estudantes do Ensino Médio que fumava cigarro tradicional caiu.

QUESTÃO 25

“[...]the first increase in years, though researchers pointed out the percentage of the rise fell within the report's margin of error”. (Linhas 8-9)

A palavra sublinhada apresenta a mesma ideia de

- A) Despite the fact that.
- B) Because.
- C) As long as.
- D) As well as.

QUESTÃO 26

Leia a charge abaixo.

Frank and Ernest



© by Thaves. Distributed from www.thecomics.com.

Assinale a alternativa **CORRETA**, de acordo com o texto.

- A) A clonagem foi, sem dúvida, um grande feito da humanidade, o que aumentou, consideravelmente, o número de habitantes da Terra.
- B) Segundo o texto, os planetas não possuem seres inteligentes, nem mesmo a Terra.
- C) A invenção do clone comprova a inteligência dos humanos.
- D) É possível inferir que os humanos não são inteligentes, pois inventaram a clonagem ainda que já houvesse um grande número de pessoas na Terra.

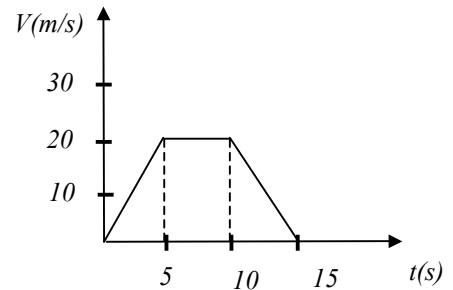
PROVA DE FÍSICA
Questões numeradas de 27 a 37

QUESTÃO 27

O gráfico velocidade *versus* tempo, na figura abaixo, diz respeito ao movimento de uma partícula.

É **CORRETO** afirmar que

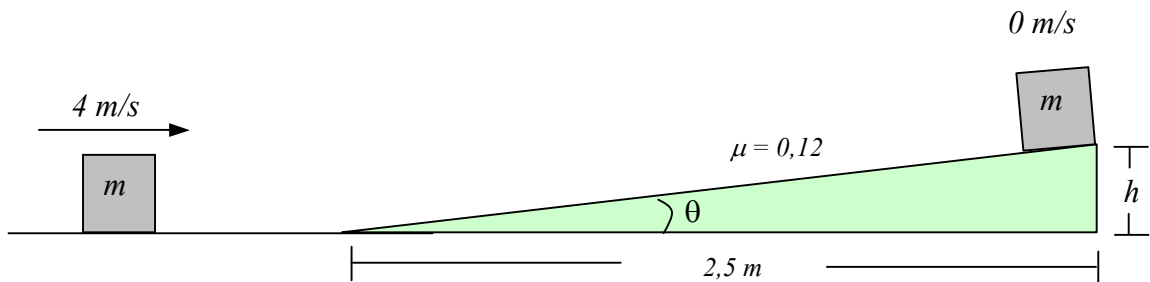
- A) o módulo da aceleração da partícula, entre 10 s e 15 s, é 2 m/s^2 .
- B) a distância percorrida pela partícula, entre 5 s e 10 s, é 200 m.
- C) a distância percorrida pela partícula, entre 10 s e 15 s, é 100 m.
- D) a aceleração média da partícula, entre 0 s e 15 s, é igual a zero.



QUESTÃO 28

Um bloco de massa m desloca-se com velocidade de módulo 4 m/s , sobre uma superfície sem atrito. Em seguida, inicia a subida de uma rampa de inclinação θ , até parar (veja a figura). O coeficiente de atrito dinâmico entre a superfície da rampa e o bloco é $\mu = 0,12$. No local, o módulo da aceleração da gravidade é 10 m/s^2 . O valor de h , em metros, é

- A) 1,0.
- B) 0,5.
- C) 2,0.
- D) 1,5.



QUESTÃO 29

O motor de um automóvel opera entre 1000 RPM e 7000 RPM. Quando o motor opera a 3000 RPM, o período, em segundos, é

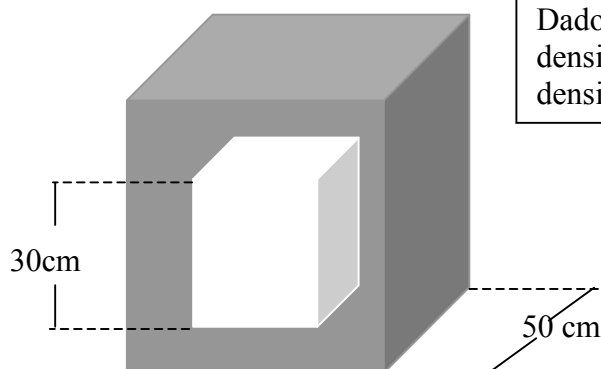
- A) 2,00.
- B) 0,20.
- C) 0,02.
- D) 20,00.

Dado: RPM = rotações por minuto.

QUESTÃO 30

Um bloco de gelo a 0°C , em formato cúbico e de aresta igual a 30 cm, foi embalado a vácuo em um saco plástico de massa desprezível. O bloco é colocado dentro de um recipiente, também de formato cúbico, cuja aresta mede 50 cm (veja a figura). Ao recipiente é adicionada, uniformemente, água a 0°C . Se durante o tempo do experimento não ocorre troca de calor entre o gelo e a água, o volume de água que deve ser colocado dentro do recipiente, para que o bloco de gelo fique na iminência de flutuar, em m^3 , é, aproximadamente:

- A) 0,0456.
- B) 0,0546.
- C) 0,0654.
- D) 0,0256

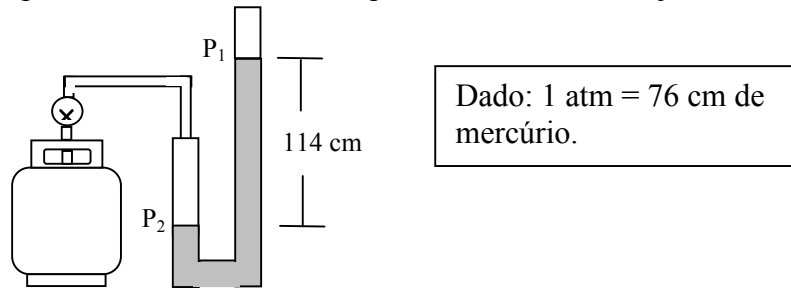


Dados:
densidade do gelo: $0,95 \text{ g/cm}^3$.
densidade da água: $1,00 \text{ g/cm}^3$.

QUESTÃO 31

Para medir a pressão interna no interior de um botijão contendo um determinado gás, um estudante conectou a válvula do botijão a um tubo em forma de U (veja a figura) contendo mercúrio. Ao abrir o registro do botijão, o gás pressiona o mercúrio que sobe até estacionar, atingindo um desnível, entre os níveis determinados por P_1 e P_2 , de 114 cm, como ilustrado na figura. Sabendo que o experimento foi realizado ao nível do mar, assinale a alternativa que apresenta o valor correto da pressão interna do botijão, em atm.

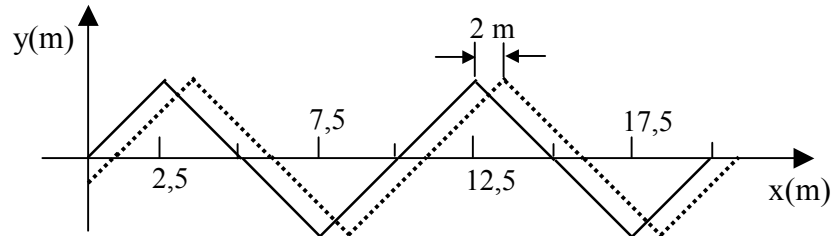
- A) 2,0.
- B) 2,5.
- C) 3,0.
- D) 1,5.



QUESTÃO 32

A figura abaixo representa uma onda triangular progressiva em dois instantes de tempo. No instante inicial ($t = 0$), a onda é representada por uma linha contínua. Em $t = 0,1$ s, temos a nova posição da onda, representada pela linha pontilhada. Se o deslocamento da onda nesse intervalo foi de 2,0 m, o seu período de oscilação, em segundos, vale

- A) 0,5.
- B) 0,1.
- C) 0,2.
- D) 0,4.



QUESTÃO 33

Leia as afirmativas:

- I - Se a luz incide obliquamente em uma interface plana, sendo o índice de refração do meio onde ela refrata maior que o índice de refração do meio de incidência, o ângulo de refração será menor que o ângulo de incidência.
- II - A lupa é uma lente divergente que fornece uma imagem virtual e maior do objeto observado.
- III - Se a luz propaga-se em um certo material com metade da velocidade de propagação no vácuo, podemos afirmar que o índice de refração do meio deve valer 2.

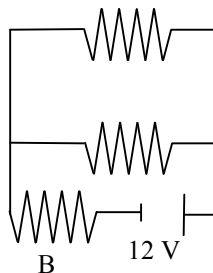
Estão **CORRETAS** as afirmativas

- A) II e III, apenas.
- B) I e II, apenas.
- C) I e III, apenas.
- D) I, II e III.

QUESTÃO 34

Três resistores de resistências iguais e de valor 2Ω são submetidos a uma d.d.p de 12 V (veja a figura). O valor da potência dissipada no resistor B, em Watt, é

- A) 32.
- B) 23.
- C) 36.
- D) 48.



QUESTÃO 35

Quando as extremidades de um fio metálico está sob diferença de potencial, a corrente elétrica que flui pelo fio vale 2 A. Tendo o conhecimento que a carga elementar é $e = 1,6 \times 10^{-19} C$, o número de elétrons que passa por uma seção reta do fio, no intervalo de tempo de um segundo, é

- A) $1,25 \times 10^{18}$.
- B) $8,00 \times 10^{18}$.
- C) $8,00 \times 10^{19}$.
- D) $1,25 \times 10^{19}$.

QUESTÃO 36

Uma esfera de massa $m = 1 \text{ kg}$, com carga desconhecida, move-se com aceleração $a = 2 \text{ m/s}^2$, em uma região de campo elétrico uniforme. Se o módulo do campo elétrico vale $E = 10 \text{ N/C}$, o valor da carga na esfera, em Coulomb, é

- A) 0,2.
- B) 0,3.
- C) 0,5.
- D) 0,1.

QUESTÃO 37

É bastante difundido pelos meios de comunicação que o Brasil possui grande potencial para a exploração da energia solar e que essa exploração parece causar menos impacto ambiental que a realizada para a exploração da energia hidrelétrica, a qual ainda constitui outro grande potencial a ser explorado em nosso país. Costuma-se perguntar por que o Brasil não investe mais na exploração da energia solar para a produção de energia elétrica. Uma razão importante desse não investimento é que o custo da energia hidrelétrica é menor que o custo da energia solar. Para a produção de eletricidade através da energia solar, utilizam-se células solares, que são dispositivos constituídos de um painel disposto em duas camadas: a superior, de silício e fósforo, e a inferior, de silício e boro. Quando a luz solar incide sobre as células, os elétrons são levados de uma camada para outra, criando uma corrente elétrica. Não temos tecnologia nacional para produzir e desenvolver células solares de alto rendimento, o que leva à importação e, portanto, ao alto custo.

No texto acima, é dito que o processo de obtenção da energia elétrica através da energia solar torna necessário o uso de células solares. O funcionamento dessas células é baseado num importante fenômeno físico, que é observado no

- A) efeito meissner.
- B) efeito fotoelétrico.
- C) efeito relativístico.
- D) efeito corona.

PROVA DE MATEMÁTICA
Questões numeradas de 38 a 48

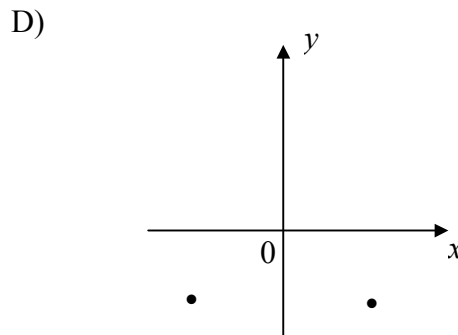
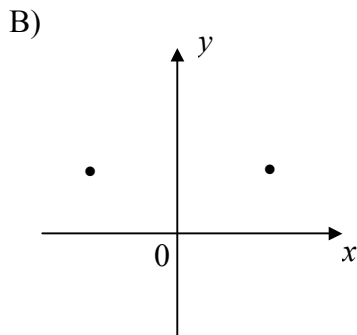
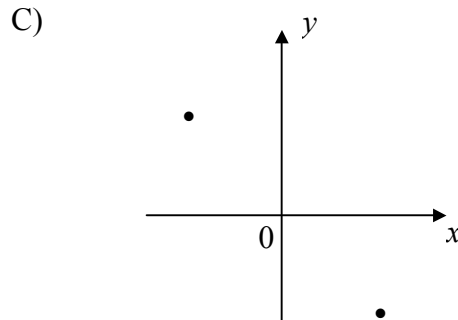
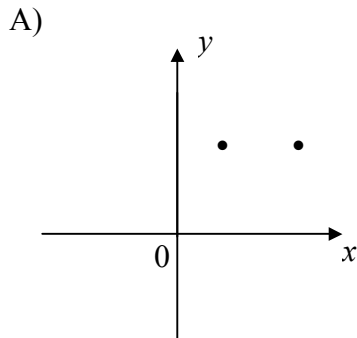
QUESTÃO 38

Uma pessoa recebeu R\$3000,00 de juros por um capital que ficou emprestado por 5 meses, à taxa de juros de 0,6% ao mês. Se o regime adotado foi o de capitalização simples, o valor emprestado foi de

- A) R\$150000,00.
- B) R\$80000,00.
- C) R\$100000,00.
- D) R\$120000,00.

QUESTÃO 39

A interseção dos conjuntos $A = \{(x, y) \in \mathbb{R} \times \mathbb{R} \mid y = -x^2 + 16\}$ e $B = \{(x, y) \in \mathbb{R} \times \mathbb{R} \mid y = \frac{7}{2}x^2\}$ pode ser representada, geometricamente, por



QUESTÃO 40

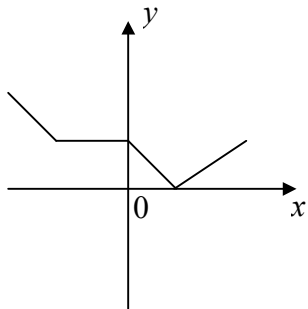
Se $f : \mathbb{R} \rightarrow \mathbb{R}$ é uma função afim tal que $f(-1) = 0$ e $f(1) = 1$, então a lei de associação de f é dada por

- A) $f(x) = \frac{x+1}{2}$.
- B) $f(x) = -\frac{x+1}{2}$.
- C) $f(x) = \frac{x-1}{2}$.
- D) $f(x) = \frac{-x+1}{2}$.

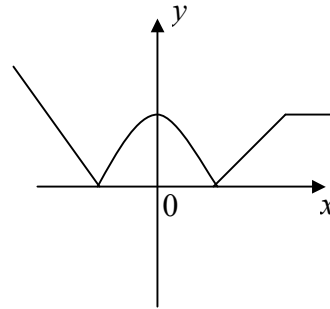
QUESTÃO 41

Considere r um número real positivo. Uma função $f :]-r, r[\rightarrow \mathbb{R}$ é par quando, para todo $x \in]-r, r[$, $f(-x) = f(x)$. Entre os gráficos abaixo, o único que tem o aspecto do gráfico de uma função par é

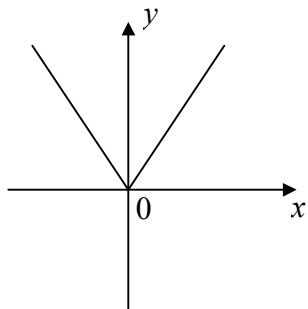
A)



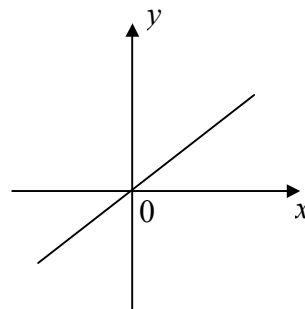
C)



B)

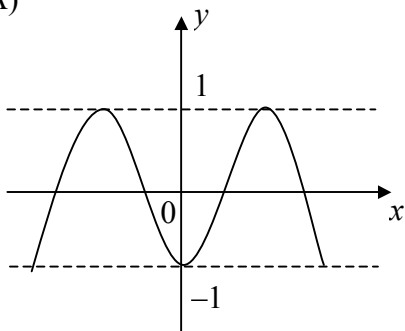


D)

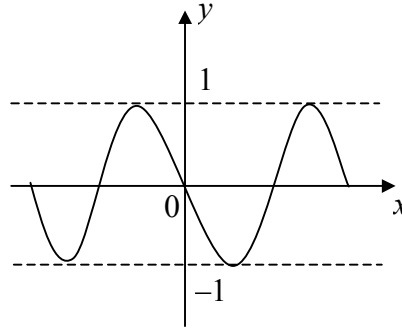
**QUESTÃO 42**

Considere $f : \mathbb{R} \rightarrow [-1, 1]$ uma função definida por $f(x) = -\text{sen } x$. O esboço que melhor representa o gráfico de f é

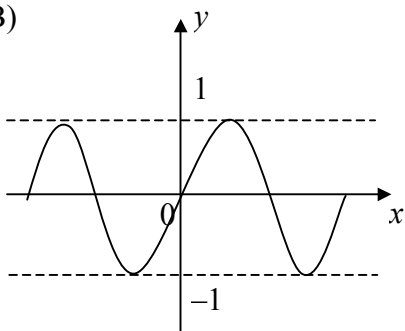
A)



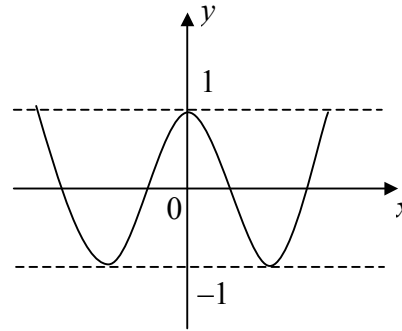
C)



B)



D)



QUESTÃO 43

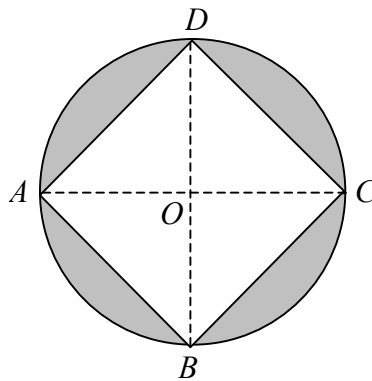
Se (x_0, y_0, z_0) é solução do sistema $\begin{cases} 2x + 3y - 2z = 1 \\ x - y + z = 3 \\ 3x + y - z = 5 \end{cases}$, então y_0 vale

- A) 0.
- B) 2.
- C) -1.
- D) -3.

QUESTÃO 44

Na figura abaixo, considere a circunferência de centro O e raio r . Se $\overline{AC} = \overline{BD} = 2r$ e $\widehat{AOB} = 90^\circ$, então a área da região colorida é igual a

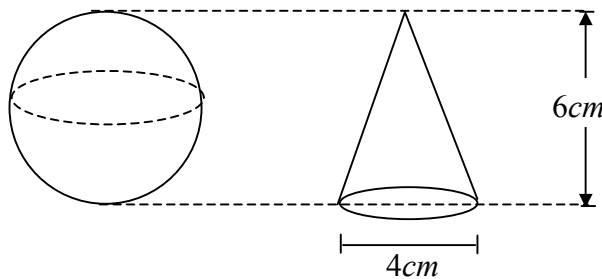
- A) $(\pi - 2)r^2$.
- B) $\frac{\pi - 2}{2}r^2$.
- C) $(\pi - 1)r^2$.
- D) $\frac{\pi - 1}{2}r^2$.



QUESTÃO 45

Considere um cone e uma esfera conforme as figuras abaixo, com as dimensões indicadas. Nessas condições, é **CORRETO** afirmar que a razão entre o volume da esfera e o volume do cone é

- A) $\frac{7}{4}$.
- B) $\frac{9}{4}$.
- C) $\frac{7}{2}$.
- D) $\frac{9}{2}$.



QUESTÃO 46

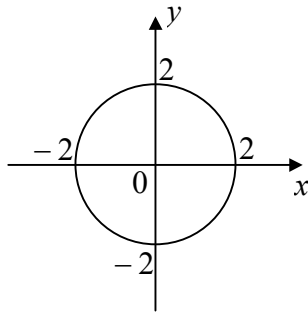
Considere o experimento aleatório “nascimento de quatro filhos de um casal”. O subconjunto do espaço amostral que representa o evento “nascimento de exatamente duas meninas em quatro filhos do casal” possui

- A) sete elementos.
- B) cinco elementos.
- C) seis elementos.
- D) oito elementos.

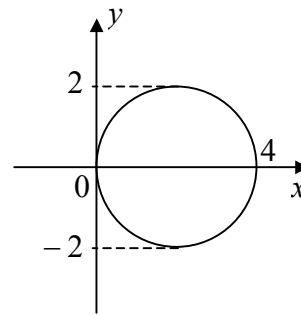
QUESTÃO 47

O lugar geométrico dos pontos $P(x, y)$ do plano cartesiano para os quais o produto dos números complexos $(x + yi)(y + xi)$ seja $4i$ é representado graficamente por

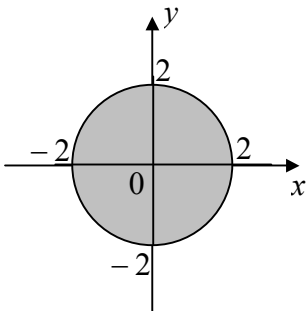
A)



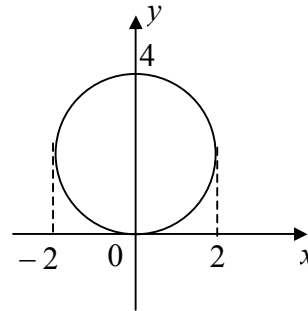
C)



B)



D)



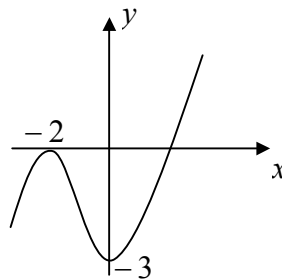
QUESTÃO 48

O esboço de gráfico abaixo representa um polinômio $P(x)$ de grau 3. Para $P(x)$, afirmamos:

- I - $P(x)$ tem uma raiz igual a -3 e uma raiz imaginária.
- II - $P(x)$ tem termo independente igual a -3 .
- III - $P(x)$ tem uma raiz real e duas imaginárias.

Das afirmativas acima,

- A) apenas II é correta.
- B) apenas II e III são corretas.
- C) apenas I é correta.
- D) apenas I e II são corretas.



PROVA DE FILOSOFIA
Questões numeradas de 49 a 52

QUESTÃO 49

Dizia Pitágoras que três tipos de pessoas compareciam aos Jogos Olímpicos: as que iam comerciar durante os jogos, ali estando apenas para satisfazer à própria cobiça, sem se interessar pelos torneios; as que iam para competir e brilhar, isto é, os atletas e artistas; e as que iam para assistir aos jogos e torneios, para avaliar e julgar o valor dos que ali se apresentavam. Esse terceiro tipo de pessoa, dizia Pitágoras, é como o filósofo. Com isso, Pitágoras queria dizer:

- A) O filósofo não é movido por interesses comerciais e financeiros. É movido pelo desejo de observar, contemplar, julgar e avaliar as coisas. Não é movido pelo desejo de saber.
 - B) O filósofo é movido por interesses comerciais e financeiros e também pelo desejo de observar, contemplar, julgar e avaliar as coisas. É movido pelo desejo de saber.
 - C) O filósofo não é movido por interesses comerciais e financeiros; e, sim, pelo desejo de observar, contemplar, julgar e avaliar as coisas. É movido pelo desejo de saber.
 - D) O filósofo é movido por interesses comerciais e financeiros. Não é movido pelo desejo de observar, contemplar, julgar e avaliar as coisas. Não é movido pelo desejo de saber.
-

QUESTÃO 50

Para os gregos, mito é um discurso pronunciado ou proferido para ouvintes que recebem a narrativa como verdadeira porque confiam naquele que narra; é uma narrativa feita em público, baseada, portanto, na autoridade e confiabilidade da pessoa do narrador. E essa autoridade vem do fato de que o narrador testemunhou diretamente o que está narrando ou recebeu a narrativa de quem testemunhou os acontecimentos narrados. Quem narra o mito recebe o nome de:

- A) Poeta.
 - B) Escriba.
 - C) Fariseu.
 - D) Rapsodo.
-

QUESTÃO 51

O que distingue a atitude científica da atitude costumeira ou do senso comum? Antes de mais nada, a ciência desconfia da veracidade de nossas certezas, de nossa adesão imediata às coisas, da ausência de crítica e da falta de curiosidade. A ciência é uma forma sistemática e organizada do pensamento humano. Com relação à ciência, é **INCORRETO** afirmar:

- A) É fixa e não aceita transformações no decorrer de sua história.
 - B) Liberta os seres humanos dos medos e das superstições.
 - C) Resulta de um trabalho paciente e de investigação racional.
 - D) Distingue-se da magia, pois rejeita o universo das crenças.
-

QUESTÃO 52

Com Kant, consolida-se a ideia de que a natureza é o reino da causalidade ou da necessidade, enquanto a cultura é o reino da vontade humana, da ação dotada de finalidade e da liberdade, tais como se exprimem na ética, na política, nas artes, nas ciências e na filosofia. São obras de Kant:

- A) *Crítica da Razão Pura; Órganon.*
- B) *Crítica da Razão Pura; Prolegomenos.*
- C) *Crítica da Razão Pura; A Náusea.*
- D) *Crítica da Razão Pura; Capital.*

PROVA DE SOCIOLOGIA
Questões numeradas de 53 a 56

QUESTÃO 53

A premissa da análise marxista da sociedade é, portanto, a existência de seres humanos que, por meio da interação com a natureza e com outros indivíduos, dão origem à vida social. No texto *Ideologia Alemã*, Marx e Engels defendem que o primeiro fato histórico é, pois, a produção dos meios que permitem satisfazer as necessidades humanas, a produção da própria vida material; trata-se de um fato histórico; de uma condição fundamental de toda a história, que é necessário, tanto hoje como há milhares de anos, executar, dia a dia, hora a hora, a fim de manter os homens vivos.

Considerando essa reflexão, é **INCORRETO** afirmar:

- A) As formas de consciência social, com suas respectivas representações e ideias sociais, determinam e condicionam as formas de vida social.
- B) O materialismo histórico tem como princípio a explicação das formas e condições de produção da vida material e social.
- C) As condições em que se realiza o trabalho humano em diferentes épocas históricas se tornam essenciais para compreensão das dinâmicas da vida social.
- D) As variadas formas que assumem as relações sociais de produção e as forças produtivas são a base para a compreensão dos diferentes tipos de sociedade.

QUESTÃO 54

A sociedade civil é crescentemente o agente transformador em regimes políticos democráticos, podendo determinar o curso do Estado. É um fenômeno histórico que resulta do processo de diferenciação social. Considerando essa perspectiva de análise, assinale a alternativa **INCORRETA**.

- A) De modo geral, a sociedade civil luta por interesses coletivos, mas pode também expressar reivindicações de grupos específicos.
- B) A sociedade civil é um movimento oligárquico de defesa do fortalecimento tecnocrático e passivo do Estado.
- C) A sociedade civil é importante porque dota os cidadãos privados de uma maneira efetiva de influenciar as políticas públicas.
- D) A sociedade civil agrega grupos de pessoas e variados tipos de organizações sociais, não sendo possível tratá-los como unidades físicas bem delimitadas no espaço social.

QUESTÃO 55

O grande sociólogo clássico alemão, Georg Simmel (1858-1918) afirmou que a vida urbana e o pensamento abstrato são ressonantes e se desenvolvem simultaneamente na sociedade moderna. Partindo dessa perspectiva de análise, é **INCORRETO** afirmar:

- A) As metrópoles detêm um lugar rico de significados para o desenvolvimento da vida social.
- B) A capacidade para operar conceitos gerais e categorias é a habilidade sem a qual a sobrevivência em ambiente urbano torna-se impraticável.
- C) A cidade oferece a possibilidade de permanência em um lugar público, mas também sem a perda da identidade e privacidade.
- D) As cidades são homogêneas e asseguram um único padrão de comportamento a todos seus habitantes.

QUESTÃO 56

Socialização é um conceito-chave utilizado na Sociologia para reconhecer que identidades sociais, papéis e trajetórias de indivíduos e grupos sociais são construídos por meio de um processo contínuo de transmissão cultural. Portanto, é **CORRETO** afirmar:

- A) A socialização não expressa a heterogeneidade das populações e seus modos de vida, mas somente a condição de nascimento das pessoas.
- B) Os indivíduos são seres antissociais que somente pautam suas vidas influenciados pelo individualismo utilitário.
- C) Socialização é o processo de aprender a tornar-se membro de uma sociedade, por meio do qual nos tornamos seres sociais.
- D) A socialização desagrega os indivíduos numa comunidade, impossibilitando as relações sociais e a participação em decisões públicas.

PRODUÇÃO DE TEXTO

No texto I da prova de múltipla escolha de língua portuguesa, o autor traz à tona um tema atual, os *haters*, ao citar, entre outros aspectos, o fato de que “[...] o senhor ‘de bem’ [...] fica em casa odiando o mundo inteiro em seus comentários nos portais da internet”.

Haters é uma palavra de origem inglesa e que significa “os que odeiam” ou “odiadores”, na tradução literal para a língua portuguesa. O termo *hater* é bastante utilizado na internet para classificar algumas pessoas que praticam *bullying* virtual ou *cyber bullying*. Basicamente, o *hater* é uma pessoa que simplesmente não está feliz ou satisfeita com o êxito, conquista ou felicidade de outra pessoa. Assim sendo, prefere “atacar” e “criticar” o indivíduo, expondo situações comprometedoras, publicamente, sobre essa pessoa, ou desvalorizando as ações e vitórias do “alvo”. O *hater* pratica o ato de odiar alguma coisa ou alguém, e essa expressão não está diretamente relacionada com a inveja, pois os *haters* não desejam ser ou possuir algo de alguém, mas sim apenas criticar e desvalorizar outra pessoa perante seu grupo social. [...] As redes sociais são as principais ferramentas de “ataque” dos *haters*.

(Disponível em: <<http://www.significados.com.br/haters/>>, acesso em: 25 mar. 2015 – adaptado.)

Considerando os aspectos acima mencionados, redija um texto argumentativo de 20 linhas em que discorra sobre essa disseminação gratuita do ódio na internet, refletindo acerca do que se poderia esperar do homem, no futuro, diante desse isolamento do outro por meio do desrespeito virtual que acaba invadindo, contaminando, também, o espaço fora das redes sociais.

NÃO É NECESSÁRIO DAR TÍTULO A SEU TEXTO

O SEU TEXTO DEVE SER REDIGIDO NA FOLHA DE RESPOSTA DA REDAÇÃO

